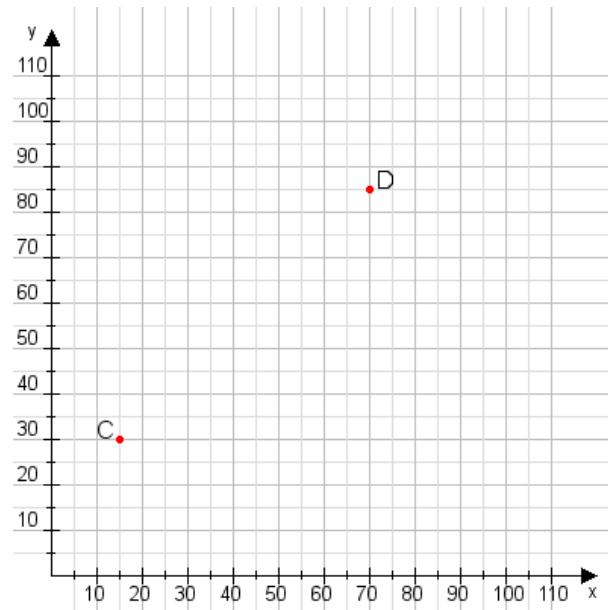


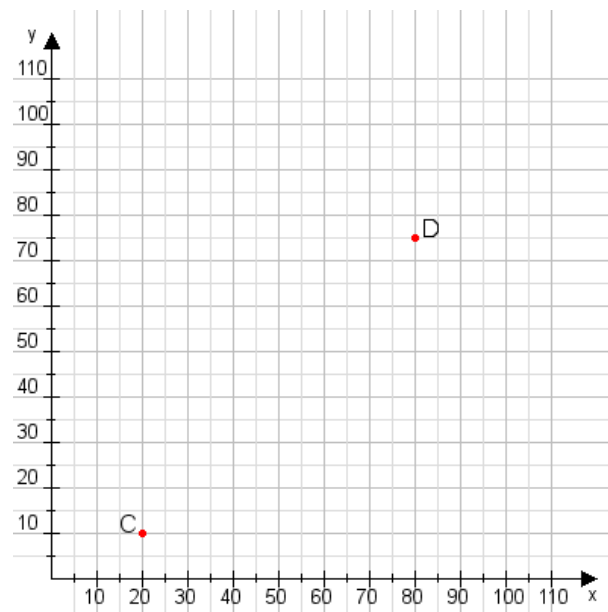
Aufgabe 1:

Zeichne den Punkt A(10|55) und den Punkt B(90|110) in das Koordinatensystem ein und verbinde beide Punkte miteinander. Verbinde die Eingetragenen Punkte C, D und ermittle deren Koordinaten.



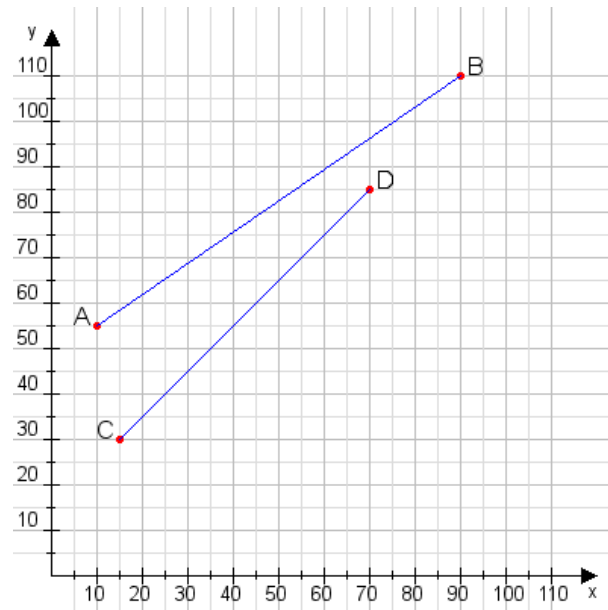
Aufgabe 2:

Zeichne den Punkt A(20|60) und den Punkt B(60|100) in das Koordinatensystem ein und verbinde beide Punkte miteinander. Verbinde die Eingetragenen Punkte C, D und ermittle deren Koordinaten.



Aufgabe 1:

C(15|30), D(70|85)



Aufgabe 2:

C(20|10), D(80|75)

