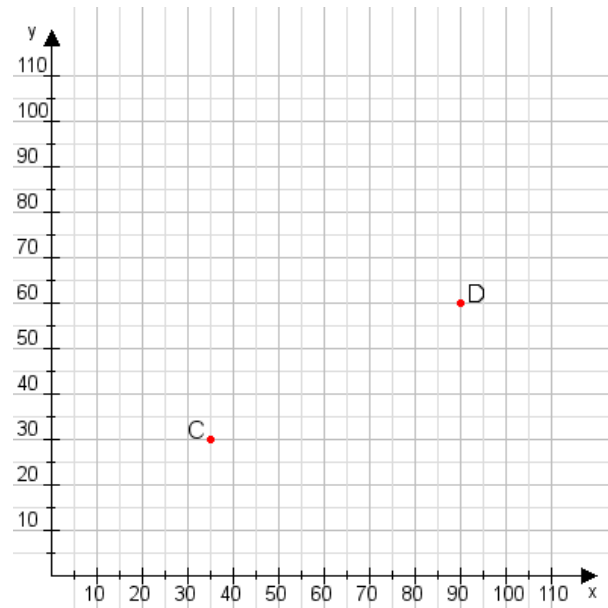


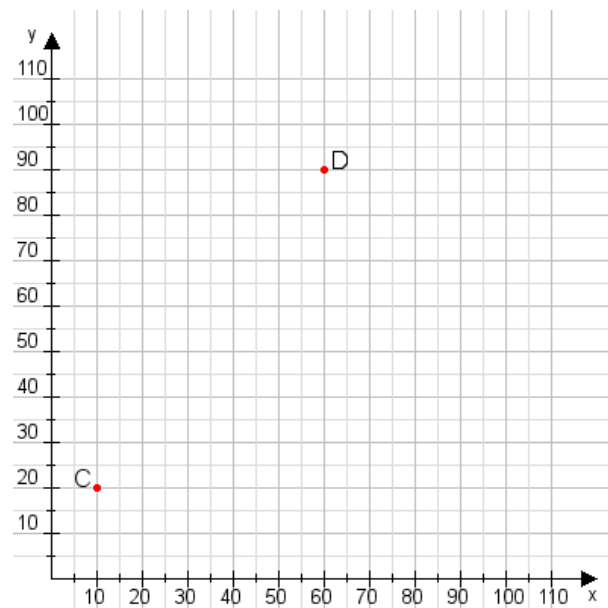
Aufgabe 1:

Zeichne den Punkt A(50|10) und den Punkt B(65|115) in das Koordinatensystem ein und verbinde beide Punkte miteinander. Verbinde die Eingetragenen Punkte C, D und ermittle deren Koordinaten.



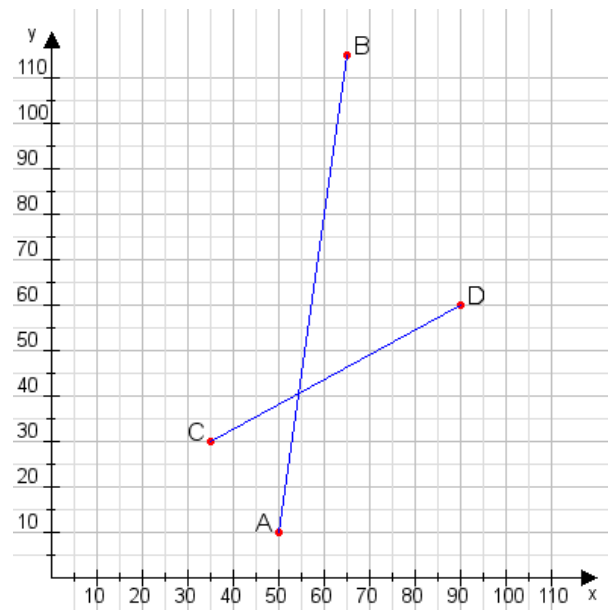
Aufgabe 2:

Zeichne den Punkt A(50|25) und den Punkt B(100|60) in das Koordinatensystem ein und verbinde beide Punkte miteinander. Verbinde die Eingetragenen Punkte C, D und ermittle deren Koordinaten.



Aufgabe 1:

C(35|30), D(90|60)



Aufgabe 2:

C(10|20), D(60|90)

