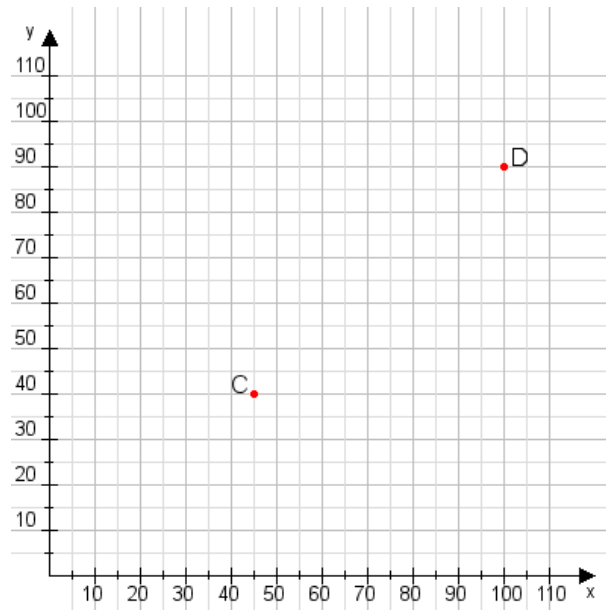


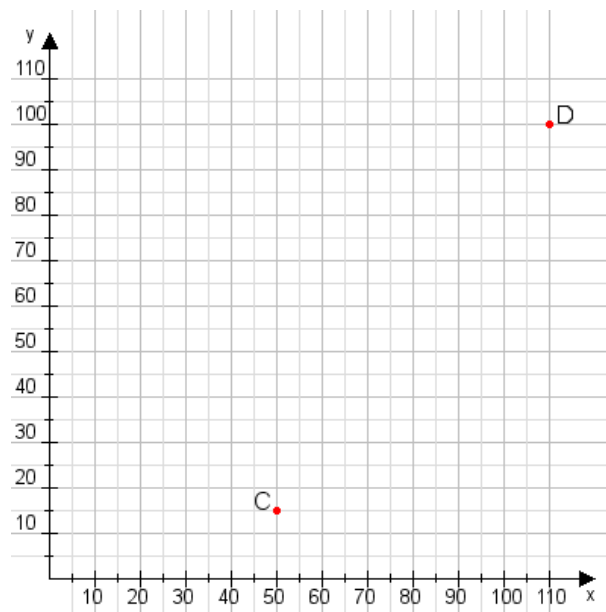
Aufgabe 1:

Zeichne den Punkt A(30|10) und den Punkt B(65|115) in das Koordinatensystem ein und verbinde beide Punkte miteinander. Verbinde die Eingetragenen Punkte C, D und ermittle deren Koordinaten.



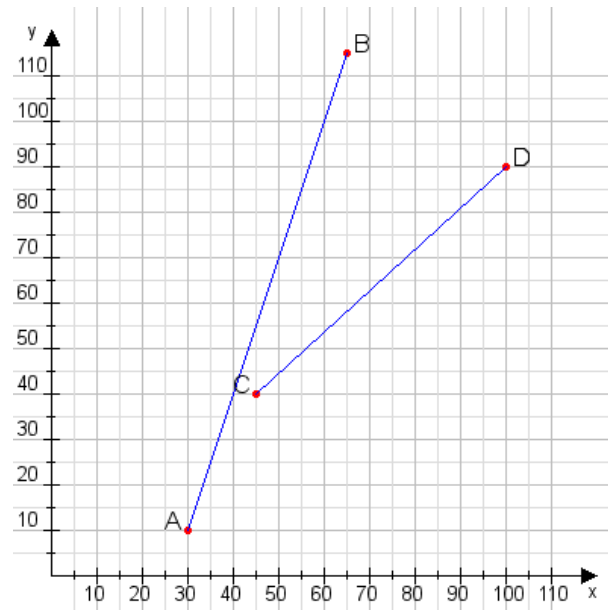
Aufgabe 2:

Zeichne den Punkt A(35|50) und den Punkt B(70|105) in das Koordinatensystem ein und verbinde beide Punkte miteinander. Verbinde die Eingetragenen Punkte C, D und ermittle deren Koordinaten.



Aufgabe 1:

C(45|40), D(100|90)



Aufgabe 2:

C(50|15), D(110|100)

