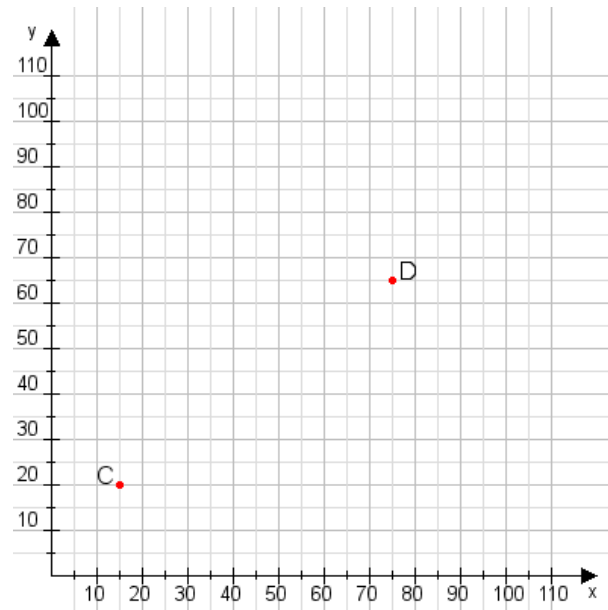


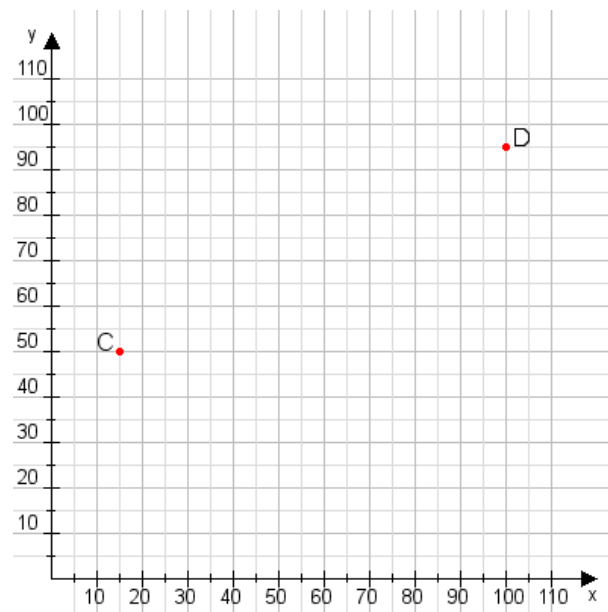
**Aufgabe 1:**

Zeichne den Punkt A(30|30) und den Punkt B(60|100) in das Koordinatensystem ein und verbinde beide Punkte miteinander. Verbinde die Eingetragenen Punkte C, D und ermittle deren Koordinaten.



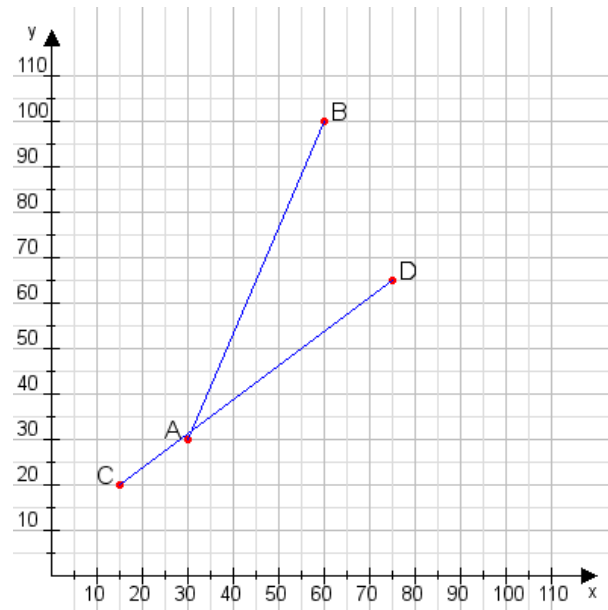
**Aufgabe 2:**

Zeichne den Punkt A(30|55) und den Punkt B(70|70) in das Koordinatensystem ein und verbinde beide Punkte miteinander. Verbinde die Eingetragenen Punkte C, D und ermittle deren Koordinaten.



**Aufgabe 1:**

C(15|20), D(75|65)



**Aufgabe 2:**

C(15|50), D(100|95)

