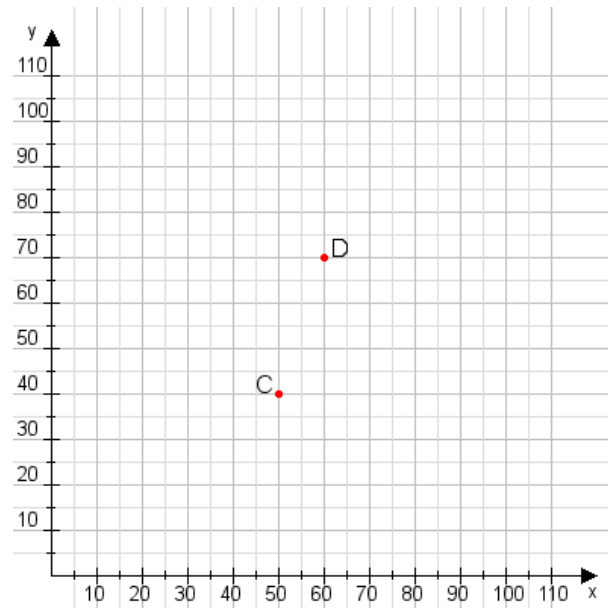


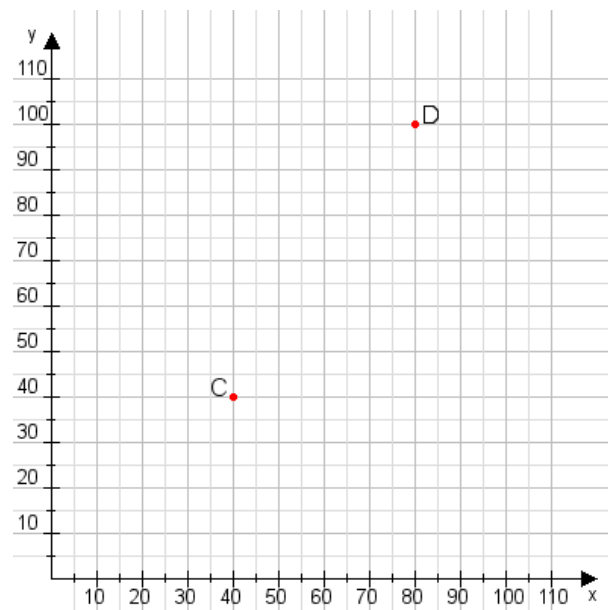
Aufgabe 1:

Zeichne den Punkt A(50|55) und den Punkt B(85|85) in das Koordinatensystem ein und verbinde beide Punkte miteinander. Verbinde die Eingetragenen Punkte C, D und ermittle deren Koordinaten.



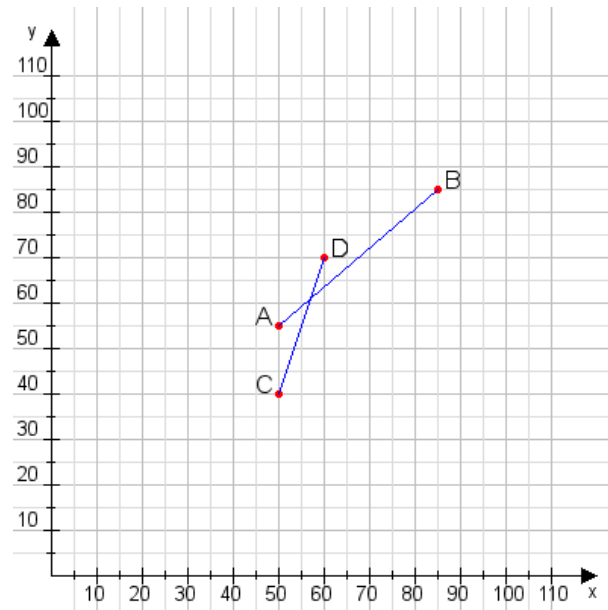
Aufgabe 2:

Zeichne den Punkt A(40|30) und den Punkt B(60|105) in das Koordinatensystem ein und verbinde beide Punkte miteinander. Verbinde die Eingetragenen Punkte C, D und ermittle deren Koordinaten.



Aufgabe 1:

C(50|40), D(60|70)



Aufgabe 2:

C(40|40), D(80|100)

