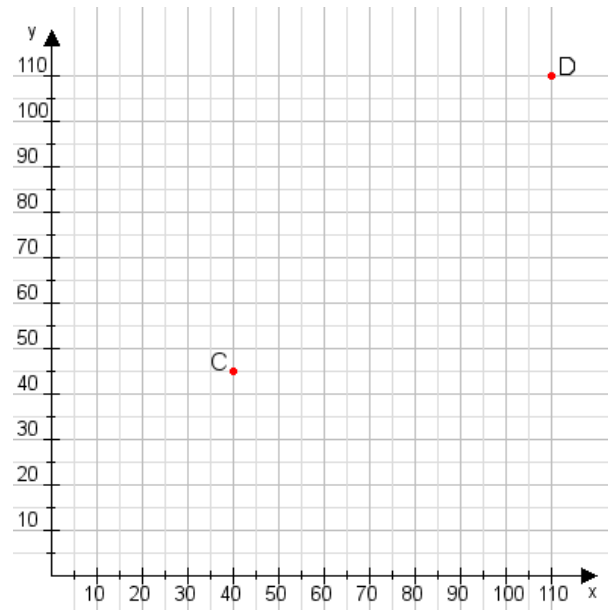


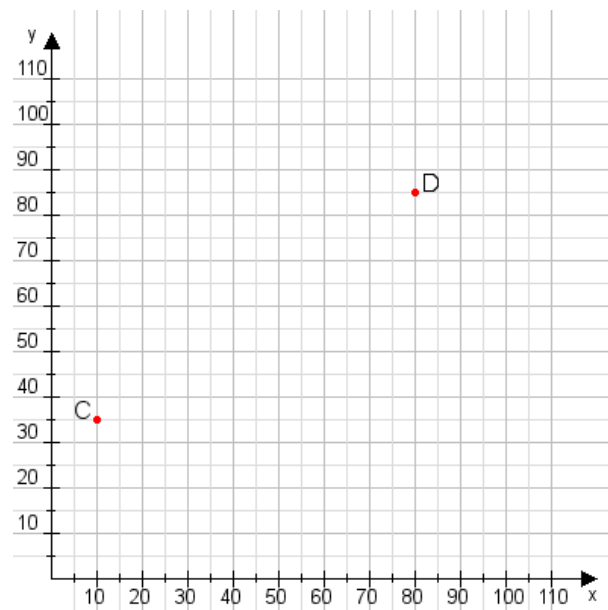
Aufgabe 1:

Zeichne den Punkt A(50|40) und den Punkt B(75|115) in das Koordinatensystem ein und verbinde beide Punkte miteinander. Verbinde die Eingetragenen Punkte C, D und ermittle deren Koordinaten.



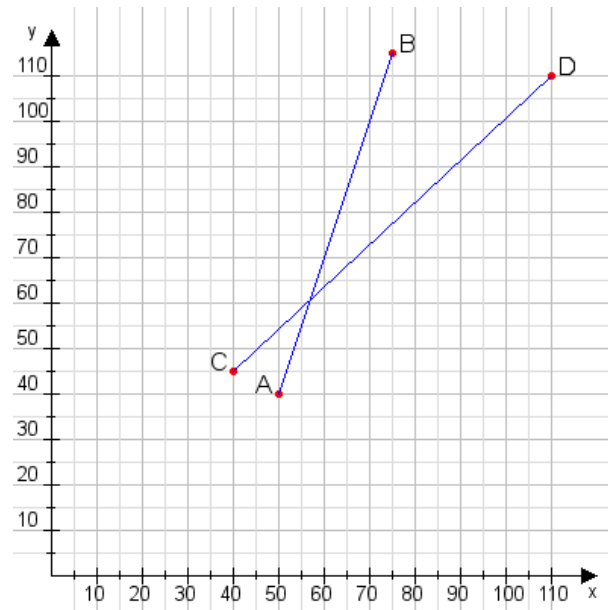
Aufgabe 2:

Zeichne den Punkt A(35|30) und den Punkt B(90|80) in das Koordinatensystem ein und verbinde beide Punkte miteinander. Verbinde die Eingetragenen Punkte C, D und ermittle deren Koordinaten.



Aufgabe 1:

C(40|45), D(110|110)



Aufgabe 2:

C(10|35), D(80|85)

