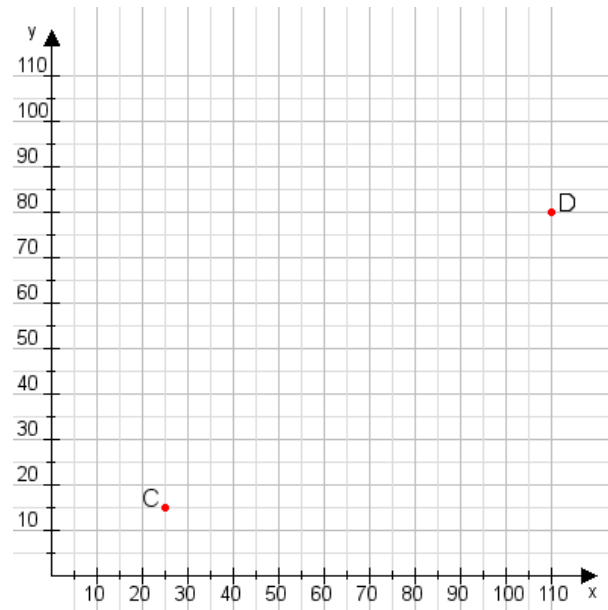


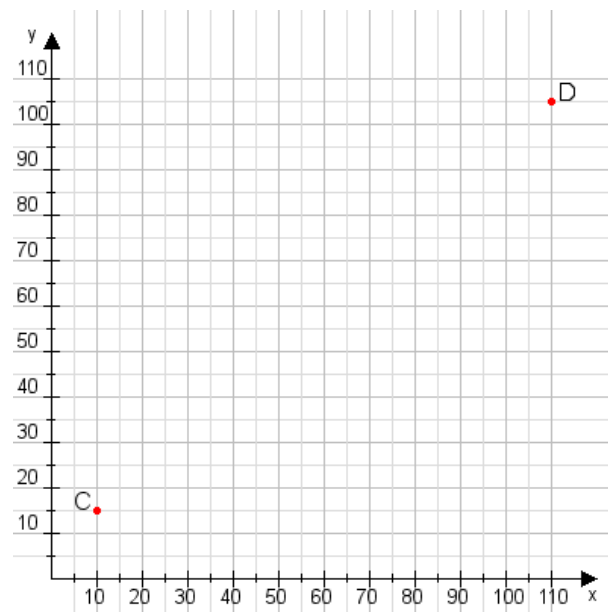
Aufgabe 1:

Zeichne den Punkt A(30|15) und den Punkt B(70|70) in das Koordinatensystem ein und verbinde beide Punkte miteinander. Verbinde die Eingetragenen Punkte C, D und ermittle deren Koordinaten.



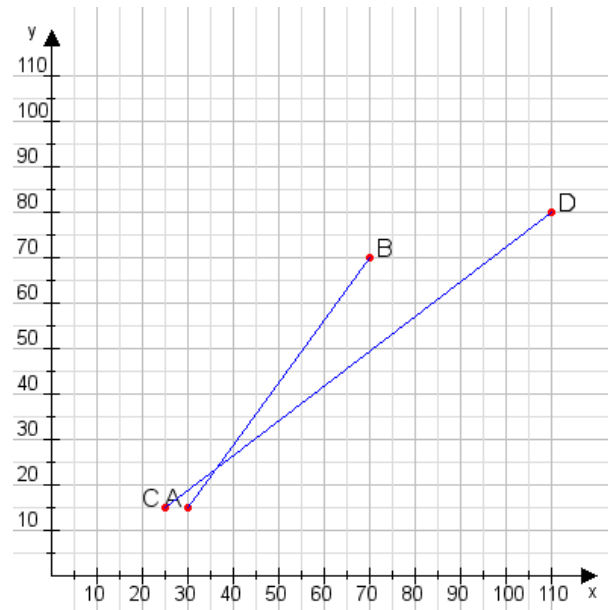
Aufgabe 2:

Zeichne den Punkt A(45|10) und den Punkt B(60|80) in das Koordinatensystem ein und verbinde beide Punkte miteinander. Verbinde die Eingetragenen Punkte C, D und ermittle deren Koordinaten.



Aufgabe 1:

C(25|15), D(110|80)



Aufgabe 2:

C(10|15), D(110|105)

