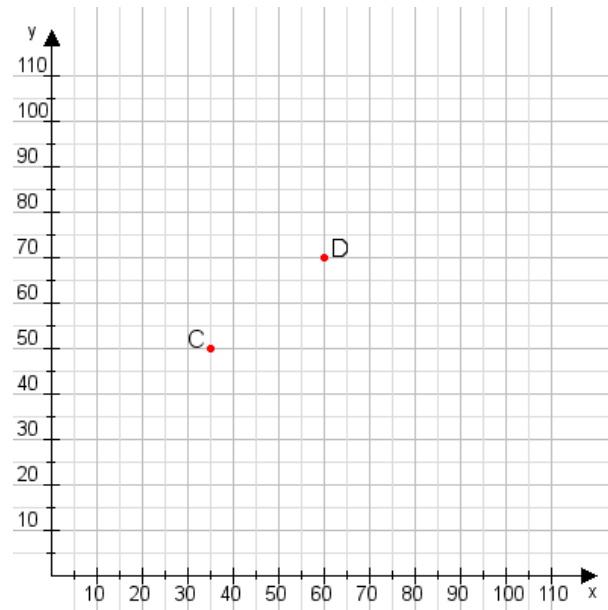


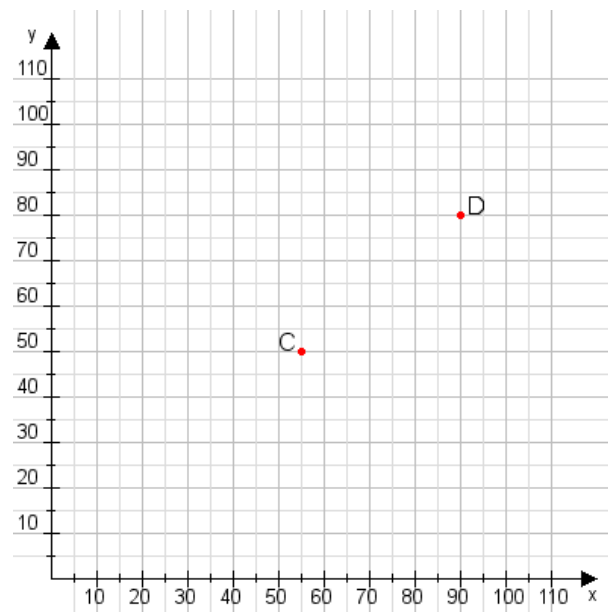
**Aufgabe 1:**

Zeichne den Punkt A(50|35) und den Punkt B(95|80) in das Koordinatensystem ein und verbinde beide Punkte miteinander. Verbinde die Eingetragenen Punkte C, D und ermittle deren Koordinaten.



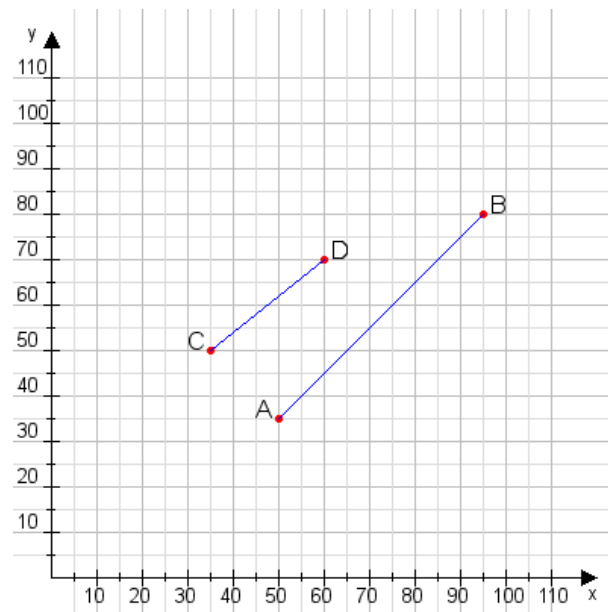
**Aufgabe 2:**

Zeichne den Punkt A(40|10) und den Punkt B(90|100) in das Koordinatensystem ein und verbinde beide Punkte miteinander. Verbinde die Eingetragenen Punkte C, D und ermittle deren Koordinaten.



**Aufgabe 1:**

C(35|50), D(60|70)



**Aufgabe 2:**

C(55|50), D(90|80)

