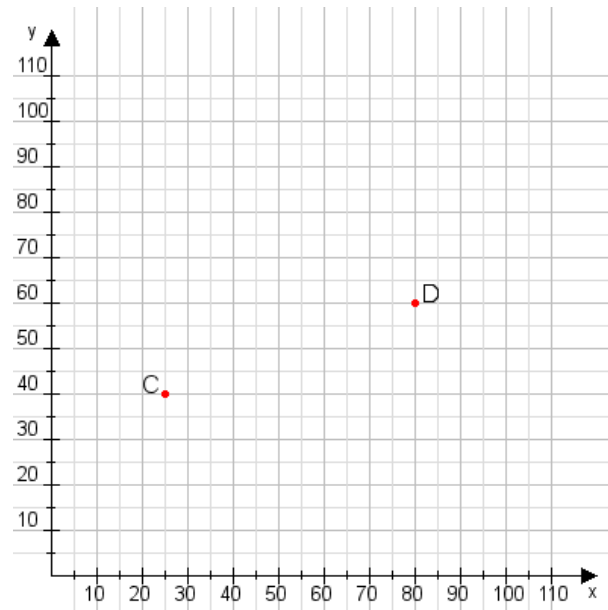


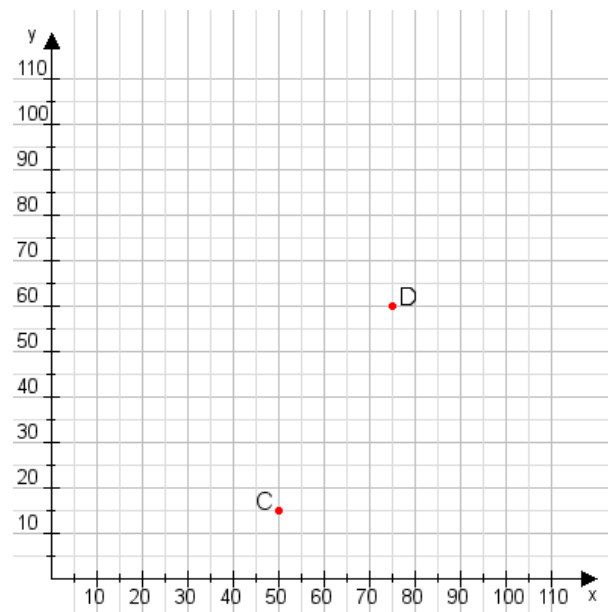
**Aufgabe 1:**

Zeichne den Punkt A(10|40) und den Punkt B(65|105) in das Koordinatensystem ein und verbinde beide Punkte miteinander. Verbinde die Eingetragenen Punkte C, D und ermittle deren Koordinaten.



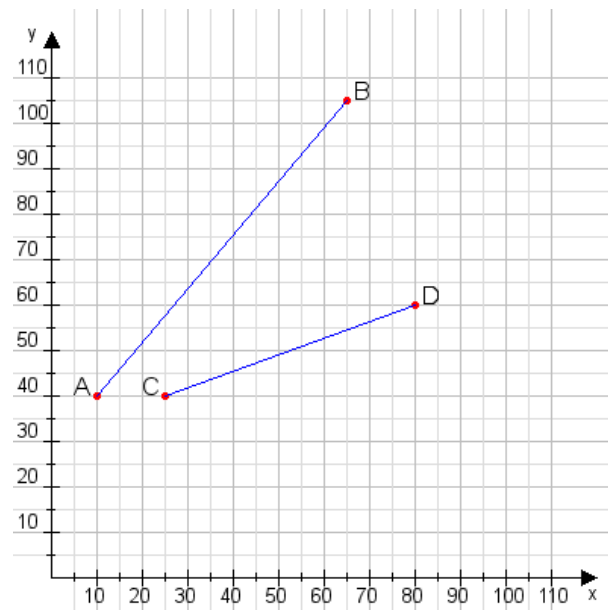
**Aufgabe 2:**

Zeichne den Punkt A(50|35) und den Punkt B(90|90) in das Koordinatensystem ein und verbinde beide Punkte miteinander. Verbinde die Eingetragenen Punkte C, D und ermittle deren Koordinaten.



**Aufgabe 1:**

C(25|40), D(80|60)



**Aufgabe 2:**

C(50|15), D(75|60)

