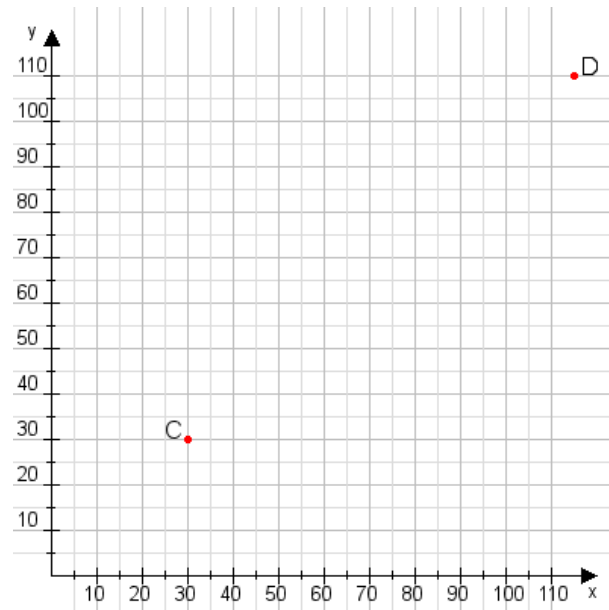


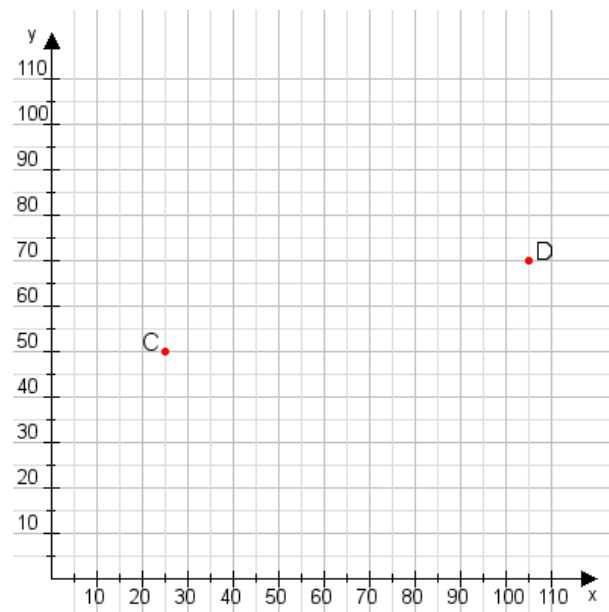
Aufgabe 1:

Zeichne den Punkt A(40|50) und den Punkt B(110|100) in das Koordinatensystem ein und verbinde beide Punkte miteinander. Verbinde die Eingetragenen Punkte C, D und ermittle deren Koordinaten.



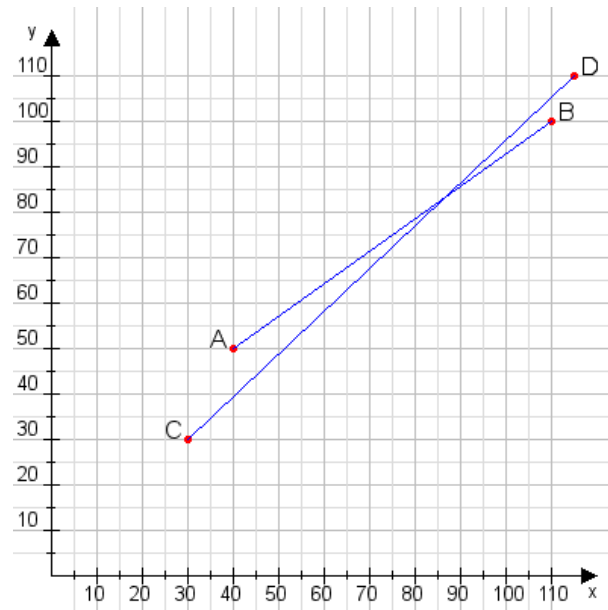
Aufgabe 2:

Zeichne den Punkt A(20|50) und den Punkt B(105|60) in das Koordinatensystem ein und verbinde beide Punkte miteinander. Verbinde die Eingetragenen Punkte C, D und ermittle deren Koordinaten.



Aufgabe 1:

C(30|30), D(115|110)



Aufgabe 2:

C(25|50), D(105|70)

