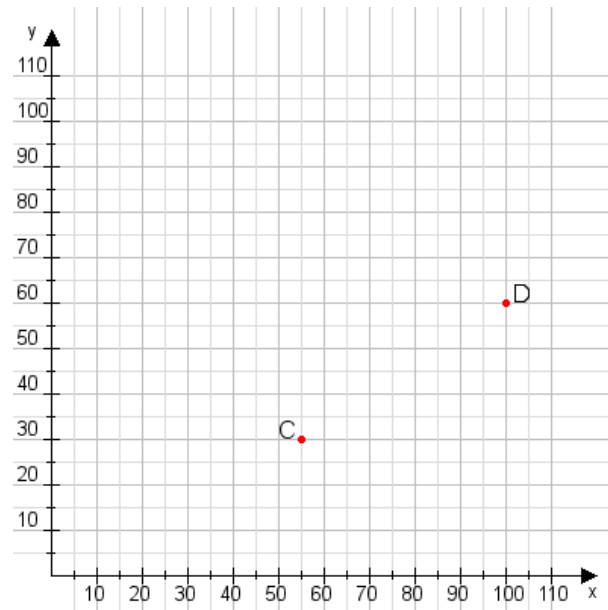


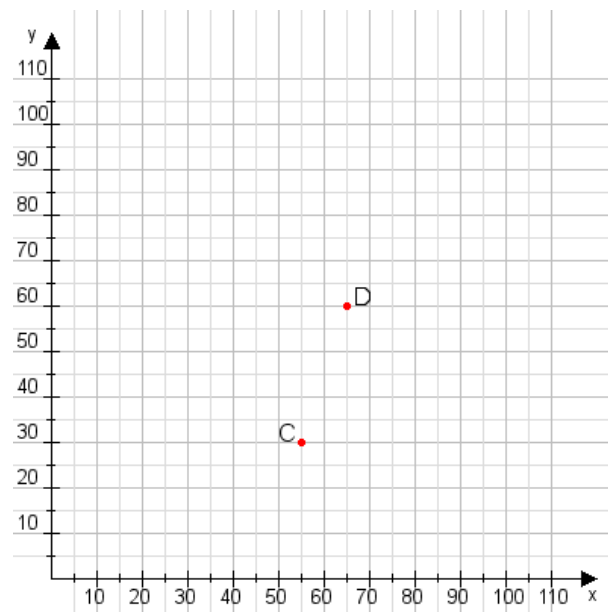
Aufgabe 1:

Zeichne den Punkt A(25|10) und den Punkt B(100|95) in das Koordinatensystem ein und verbinde beide Punkte miteinander. Verbinde die Eingetragenen Punkte C, D und ermittle deren Koordinaten.



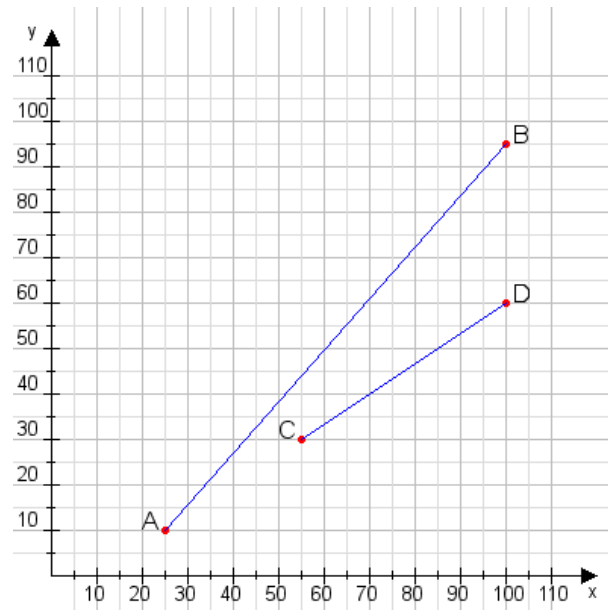
Aufgabe 2:

Zeichne den Punkt A(30|25) und den Punkt B(80|90) in das Koordinatensystem ein und verbinde beide Punkte miteinander. Verbinde die Eingetragenen Punkte C, D und ermittle deren Koordinaten.



Aufgabe 1:

C(55|30), D(100|60)



Aufgabe 2:

C(55|30), D(65|60)

