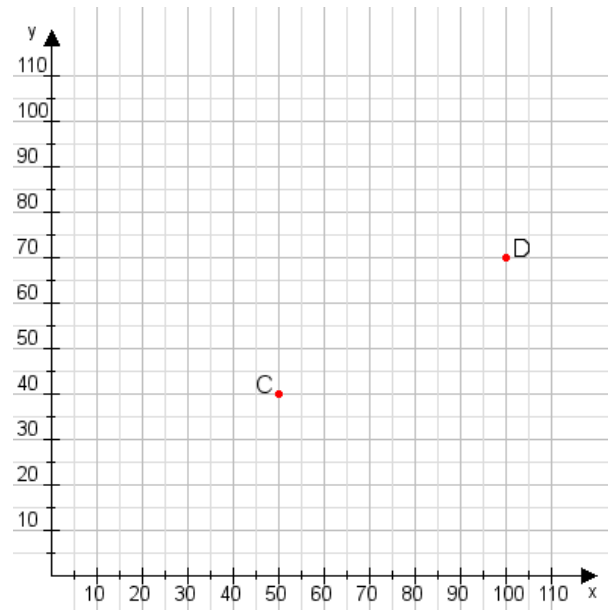


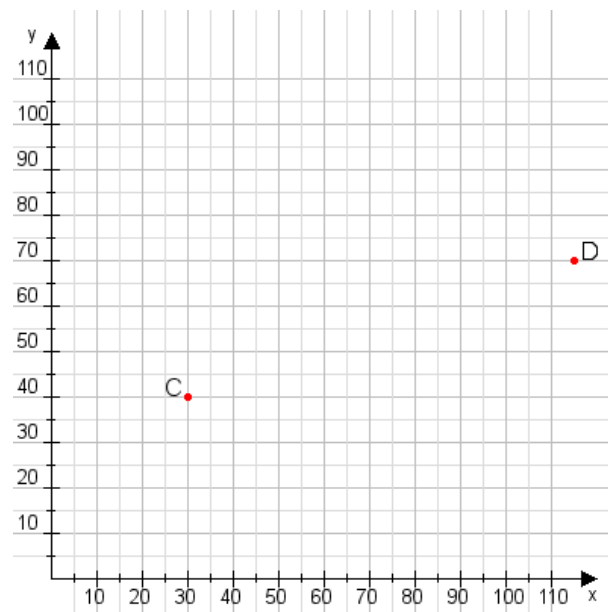
Aufgabe 1:

Zeichne den Punkt A(10|55) und den Punkt B(100|100) in das Koordinatensystem ein und verbinde beide Punkte miteinander. Verbinde die Eingetragenen Punkte C, D und ermittle deren Koordinaten.



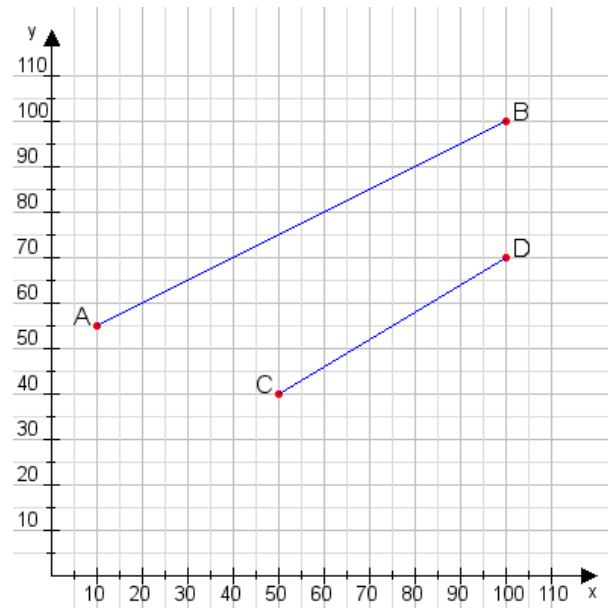
Aufgabe 2:

Zeichne den Punkt A(25|40) und den Punkt B(80|65) in das Koordinatensystem ein und verbinde beide Punkte miteinander. Verbinde die Eingetragenen Punkte C, D und ermittle deren Koordinaten.



Aufgabe 1:

C(50|40), D(100|70)



Aufgabe 2:

C(30|40), D(115|70)

