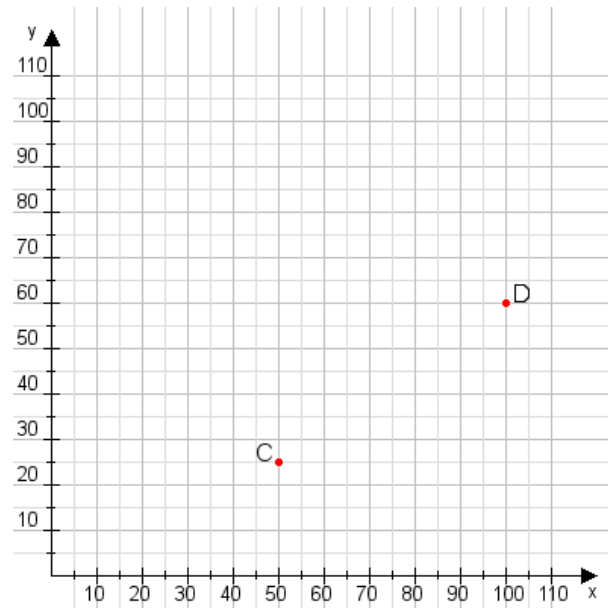


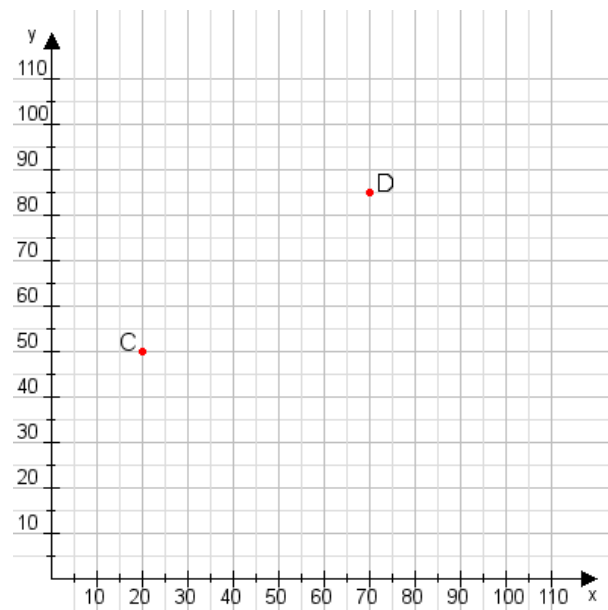
**Aufgabe 1:**

Zeichne den Punkt A(40|40) und den Punkt B(110|110) in das Koordinatensystem ein und verbinde beide Punkte miteinander. Verbinde die Eingetragenen Punkte C, D und ermittle deren Koordinaten.



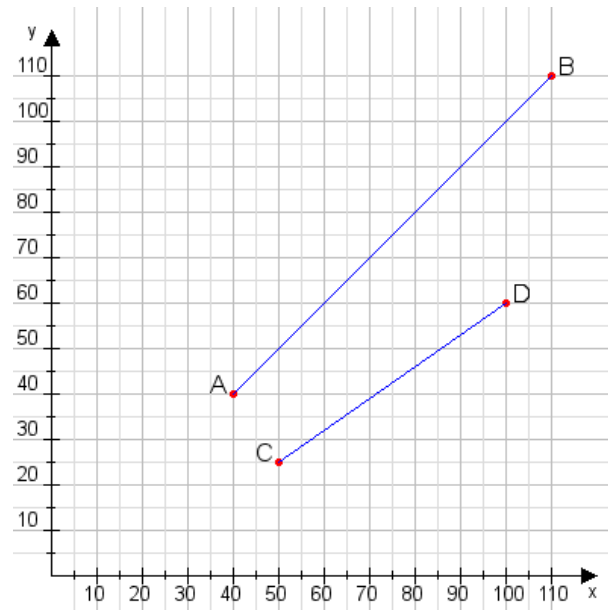
**Aufgabe 2:**

Zeichne den Punkt A(50|60) und den Punkt B(80|70) in das Koordinatensystem ein und verbinde beide Punkte miteinander. Verbinde die Eingetragenen Punkte C, D und ermittle deren Koordinaten.



**Aufgabe 1:**

**C(50|25), D(100|60)**



**Aufgabe 2:**

**C(20|50), D(70|85)**

