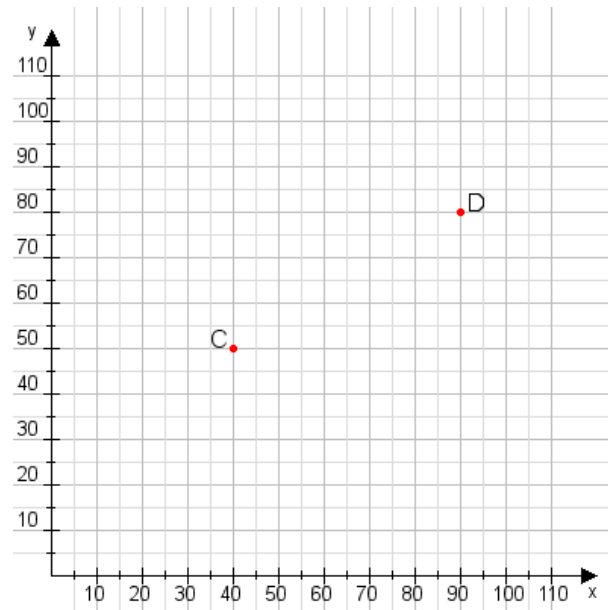


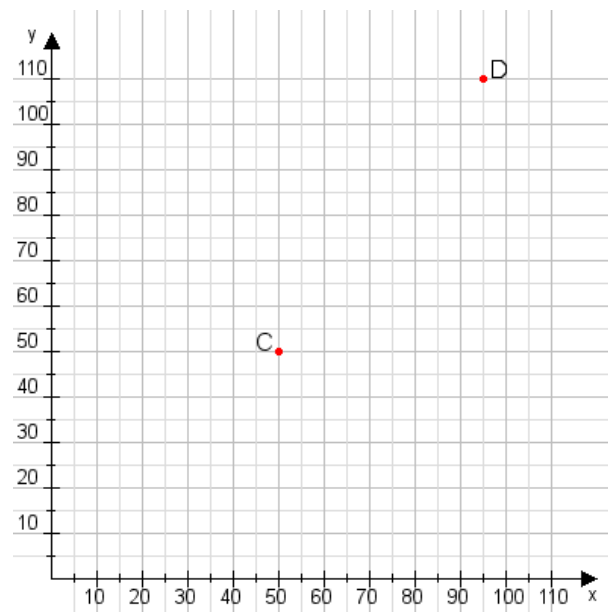
Aufgabe 1:

Zeichne den Punkt A(35|50) und den Punkt B(110|90) in das Koordinatensystem ein und verbinde beide Punkte miteinander. Verbinde die Eingetragenen Punkte C, D und ermittle deren Koordinaten.



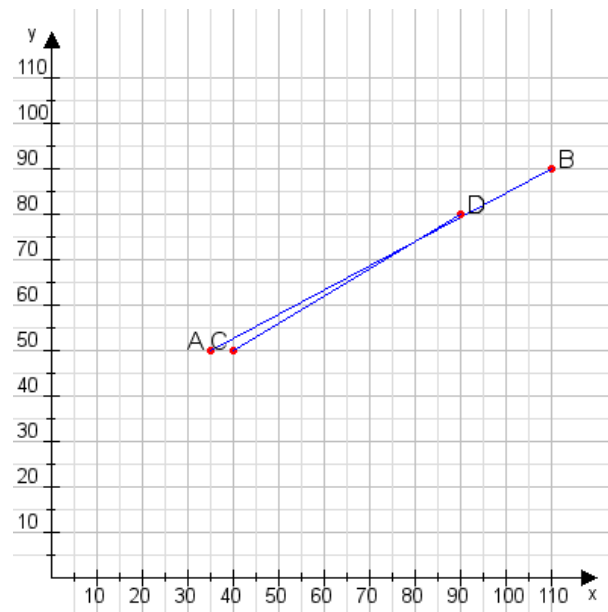
Aufgabe 2:

Zeichne den Punkt A(40|20) und den Punkt B(105|85) in das Koordinatensystem ein und verbinde beide Punkte miteinander. Verbinde die Eingetragenen Punkte C, D und ermittle deren Koordinaten.



Aufgabe 1:

C(40|50), D(90|80)



Aufgabe 2:

C(50|50), D(95|110)

