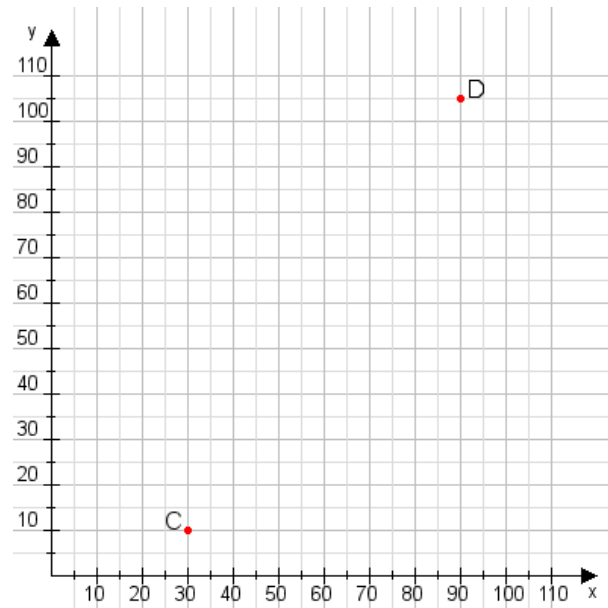


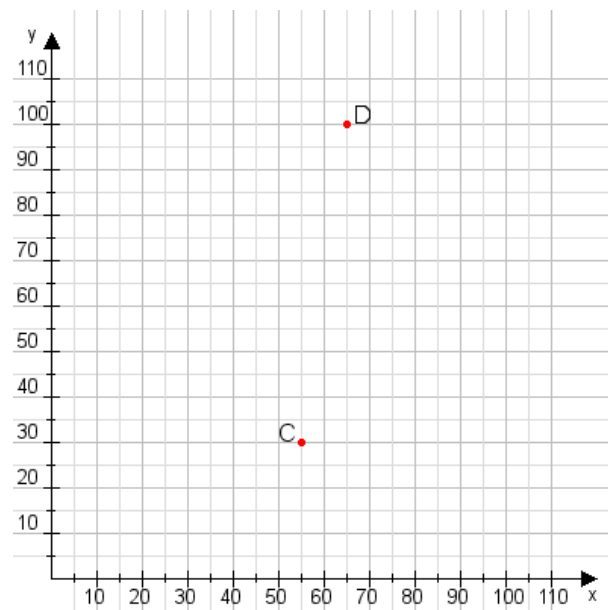
Aufgabe 1:

Zeichne den Punkt A(55|20) und den Punkt B(80|85) in das Koordinatensystem ein und verbinde beide Punkte miteinander. Verbinde die Eingetragenen Punkte C, D und ermittle deren Koordinaten.



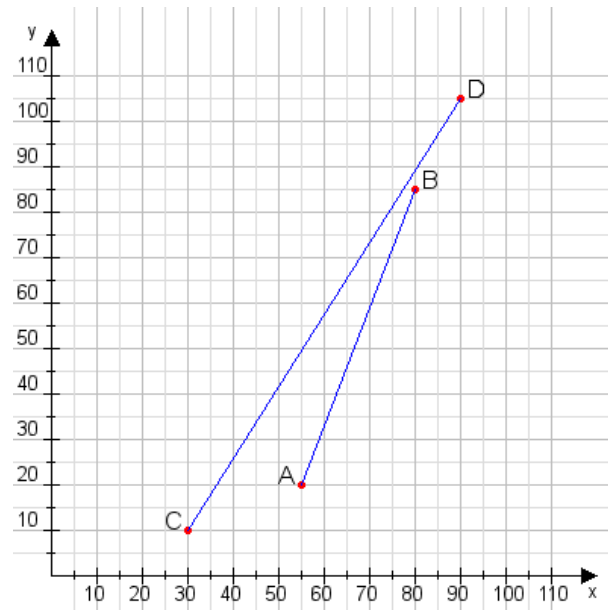
Aufgabe 2:

Zeichne den Punkt A(55|10) und den Punkt B(110|60) in das Koordinatensystem ein und verbinde beide Punkte miteinander. Verbinde die Eingetragenen Punkte C, D und ermittle deren Koordinaten.



Aufgabe 1:

C(30|10), D(90|105)



Aufgabe 2:

C(55|30), D(65|100)

