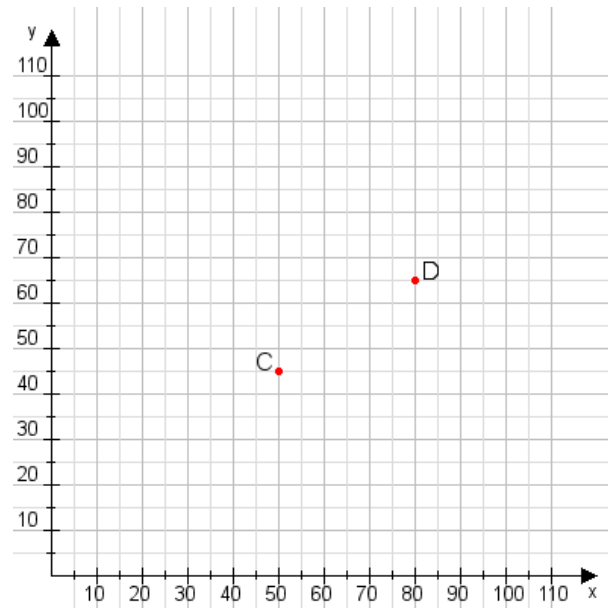


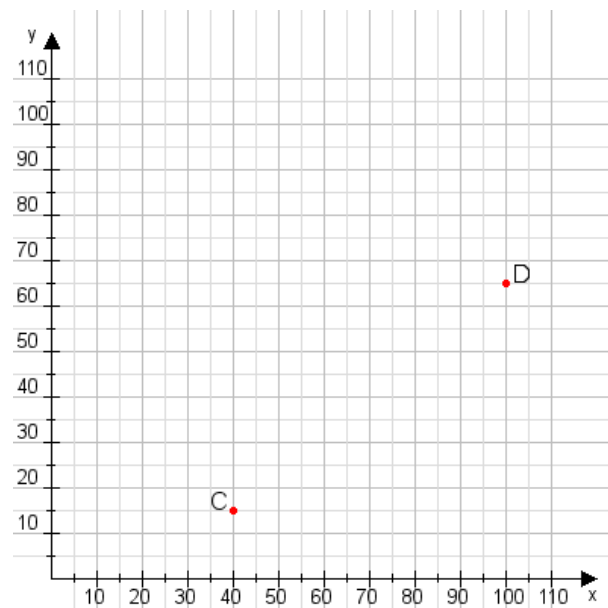
Aufgabe 1:

Zeichne den Punkt A(20|15) und den Punkt B(80|60) in das Koordinatensystem ein und verbinde beide Punkte miteinander. Verbinde die Eingetragenen Punkte C, D und ermittle deren Koordinaten.



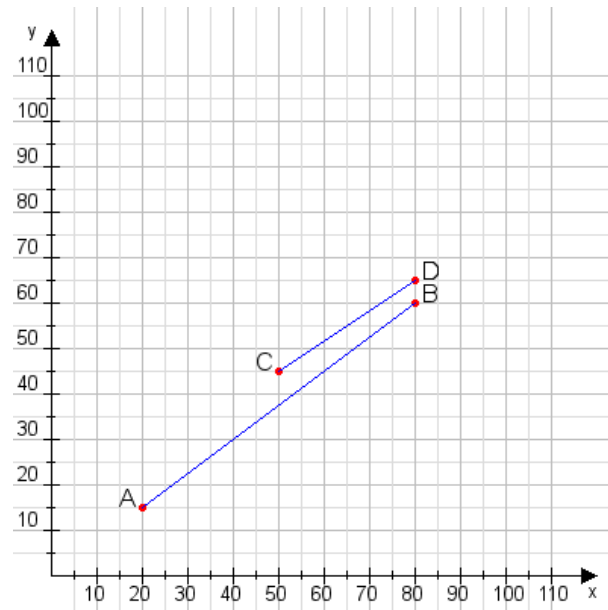
Aufgabe 2:

Zeichne den Punkt A(20|10) und den Punkt B(115|70) in das Koordinatensystem ein und verbinde beide Punkte miteinander. Verbinde die Eingetragenen Punkte C, D und ermittle deren Koordinaten.



Aufgabe 1:

C(50|45), D(80|65)



Aufgabe 2:

C(40|15), D(100|65)

