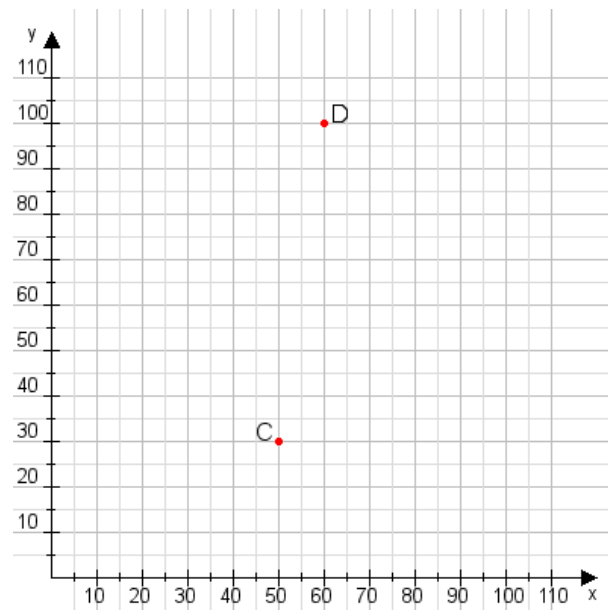


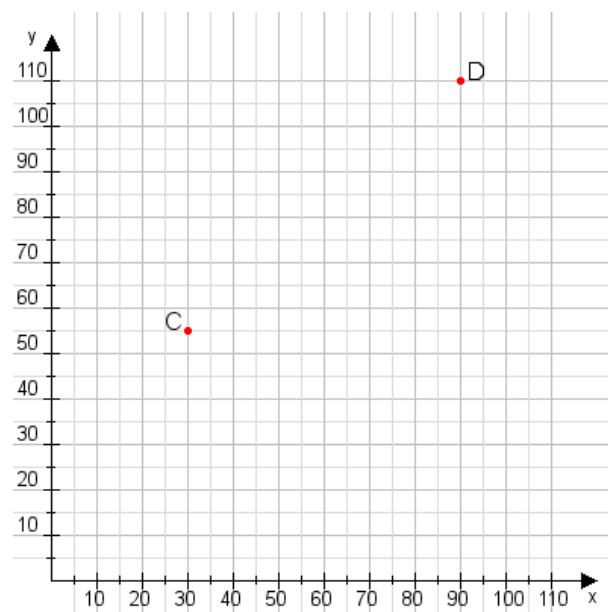
Aufgabe 1:

Zeichne den Punkt A(20|55) und den Punkt B(100|110) in das Koordinatensystem ein und verbinde beide Punkte miteinander. Verbinde die Eingetragenen Punkte C, D und ermittle deren Koordinaten.



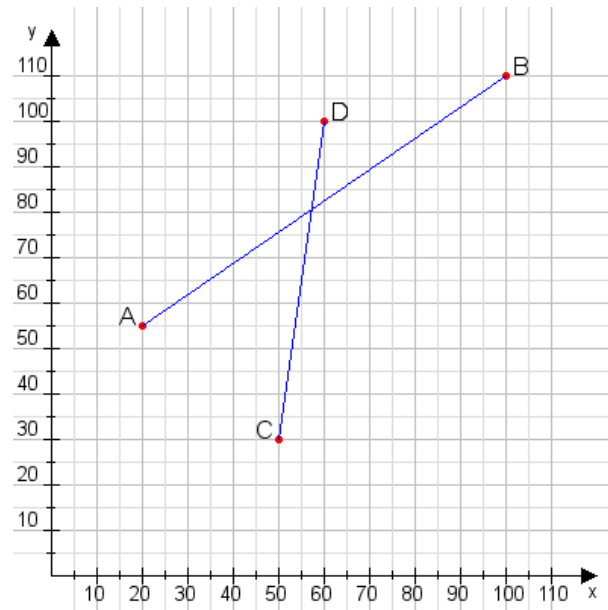
Aufgabe 2:

Zeichne den Punkt A(20|15) und den Punkt B(90|95) in das Koordinatensystem ein und verbinde beide Punkte miteinander. Verbinde die Eingetragenen Punkte C, D und ermittle deren Koordinaten.



Aufgabe 1:

C(50|30), D(60|100)



Aufgabe 2:

C(30|55), D(90|110)

