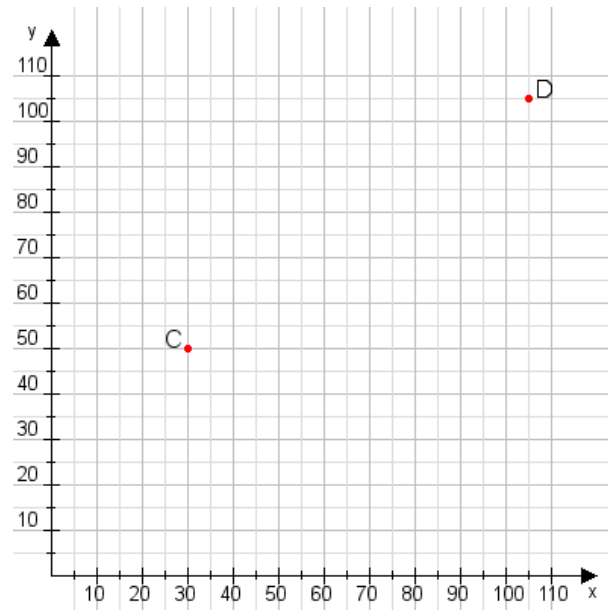


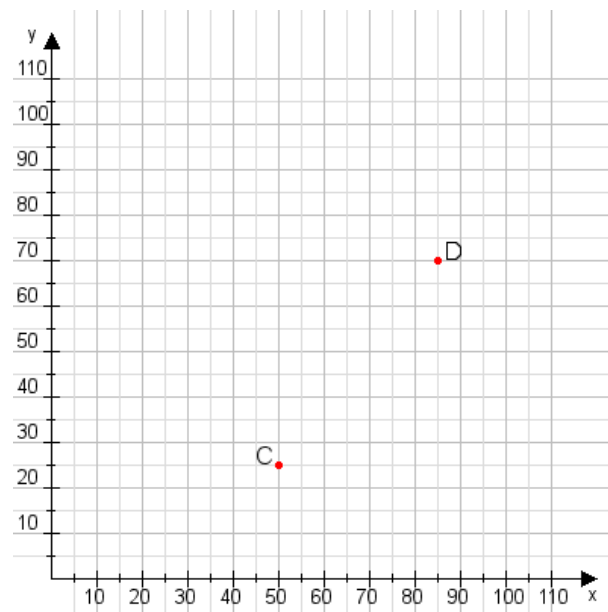
Aufgabe 1:

Zeichne den Punkt A(10|50) und den Punkt B(95|100) in das Koordinatensystem ein und verbinde beide Punkte miteinander. Verbinde die Eingetragenen Punkte C, D und ermittle deren Koordinaten.



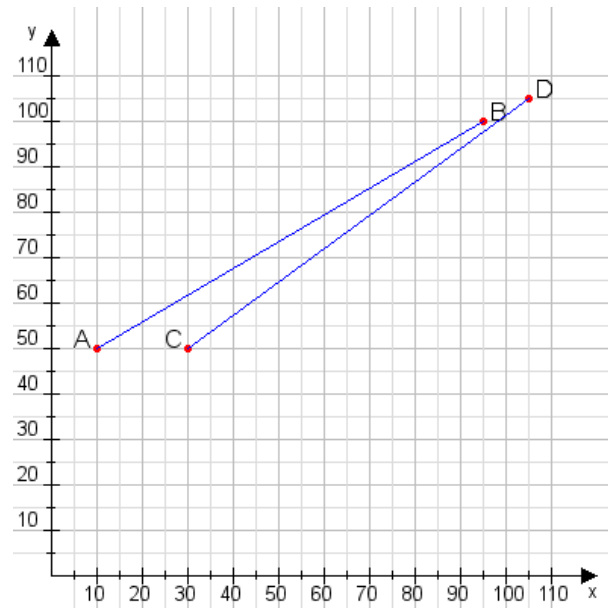
Aufgabe 2:

Zeichne den Punkt A(30|20) und den Punkt B(100|75) in das Koordinatensystem ein und verbinde beide Punkte miteinander. Verbinde die Eingetragenen Punkte C, D und ermittle deren Koordinaten.



Aufgabe 1:

C(30|50), D(105|105)



Aufgabe 2:

C(50|25), D(85|70)

