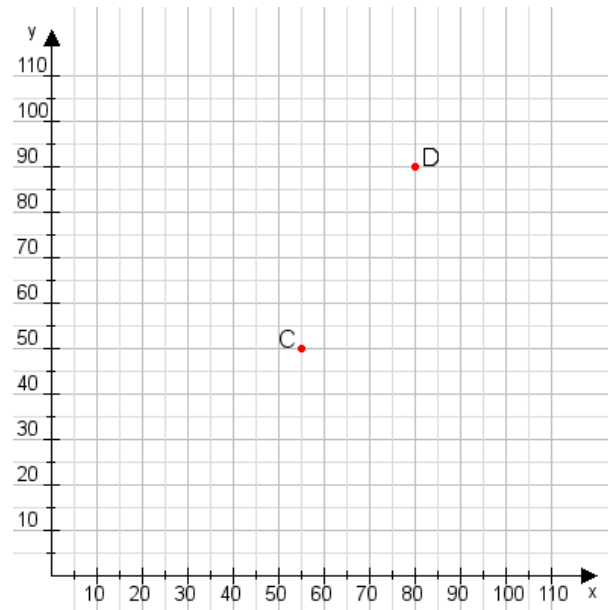


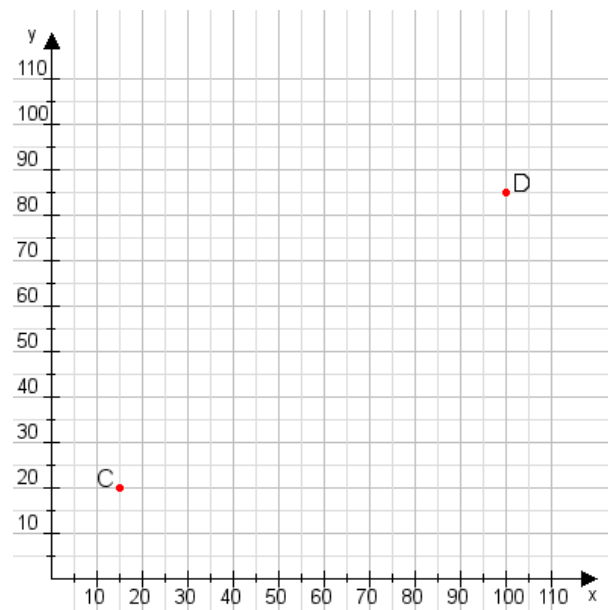
Aufgabe 1:

Zeichne den Punkt A(40|20) und den Punkt B(105|95) in das Koordinatensystem ein und verbinde beide Punkte miteinander. Verbinde die Eingetragenen Punkte C, D und ermittle deren Koordinaten.



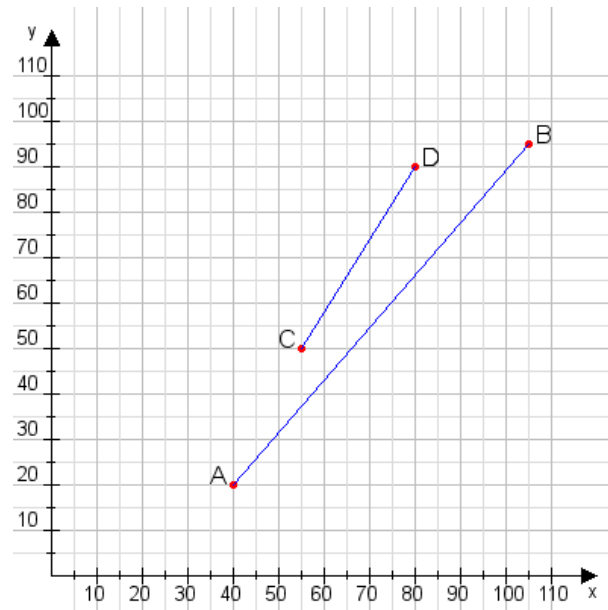
Aufgabe 2:

Zeichne den Punkt A(40|25) und den Punkt B(80|110) in das Koordinatensystem ein und verbinde beide Punkte miteinander. Verbinde die Eingetragenen Punkte C, D und ermittle deren Koordinaten.



Aufgabe 1:

C(55|50), D(80|90)



Aufgabe 2:

C(15|20), D(100|85)

