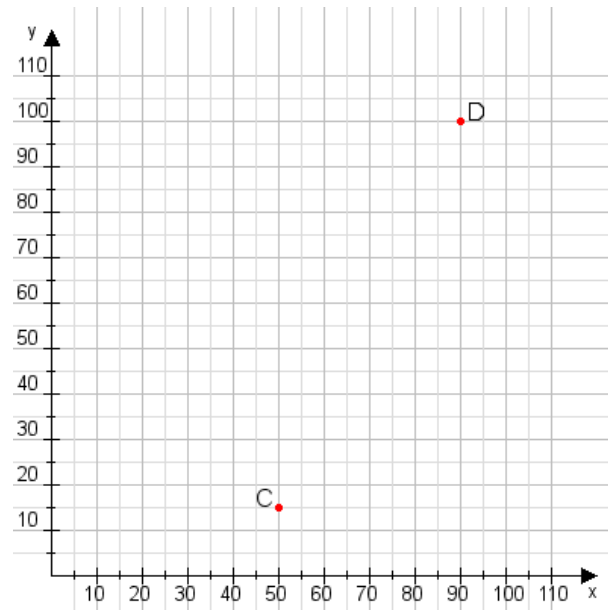


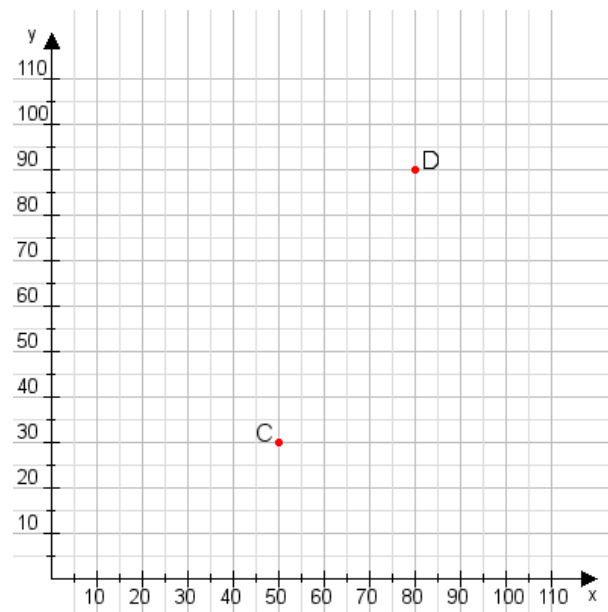
Aufgabe 1:

Zeichne den Punkt A(40|40) und den Punkt B(80|90) in das Koordinatensystem ein und verbinde beide Punkte miteinander. Verbinde die Eingetragenen Punkte C, D und ermittle deren Koordinaten.



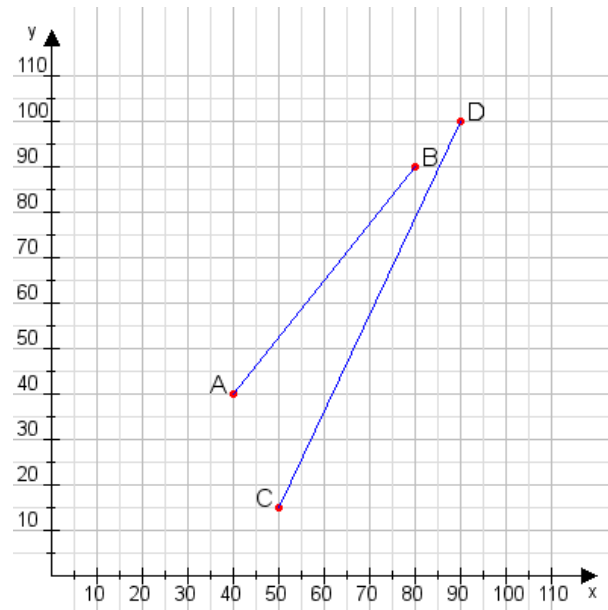
Aufgabe 2:

Zeichne den Punkt A(50|25) und den Punkt B(100|80) in das Koordinatensystem ein und verbinde beide Punkte miteinander. Verbinde die Eingetragenen Punkte C, D und ermittle deren Koordinaten.



Aufgabe 1:

C(50|15), D(90|100)



Aufgabe 2:

C(50|30), D(80|90)

