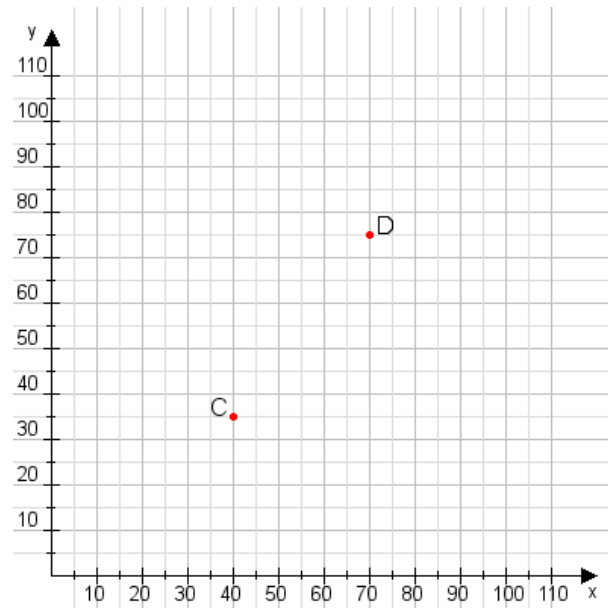


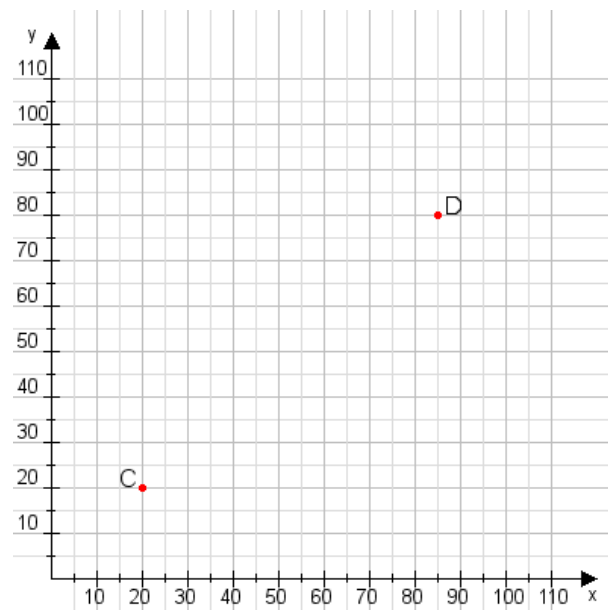
**Aufgabe 1:**

Zeichne den Punkt A(10|30) und den Punkt B(95|60) in das Koordinatensystem ein und verbinde beide Punkte miteinander. Verbinde die Eingetragenen Punkte C, D und ermittle deren Koordinaten.



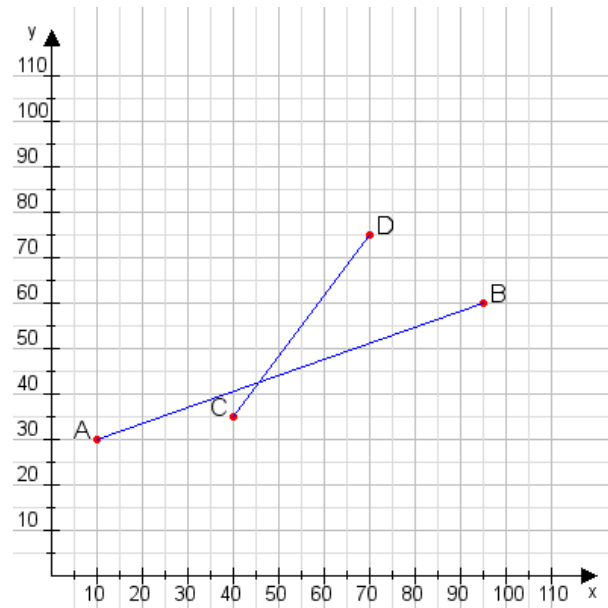
**Aufgabe 2:**

Zeichne den Punkt A(50|10) und den Punkt B(115|105) in das Koordinatensystem ein und verbinde beide Punkte miteinander. Verbinde die Eingetragenen Punkte C, D und ermittle deren Koordinaten.



**Aufgabe 1:**

C(40|35), D(70|75)



**Aufgabe 2:**

C(20|20), D(85|80)

