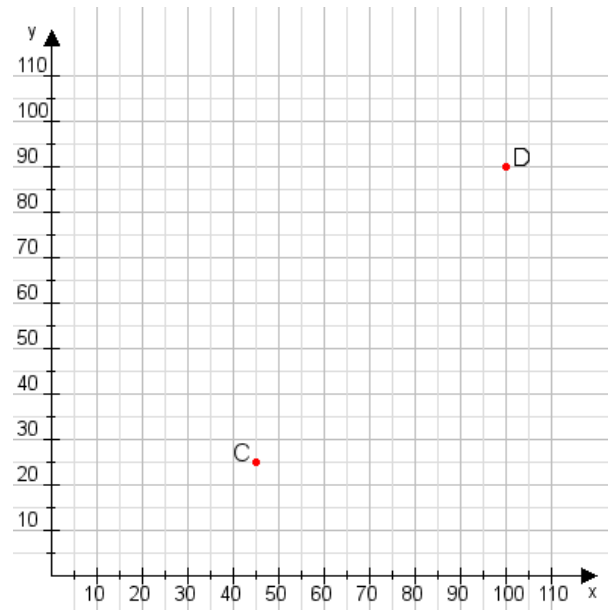


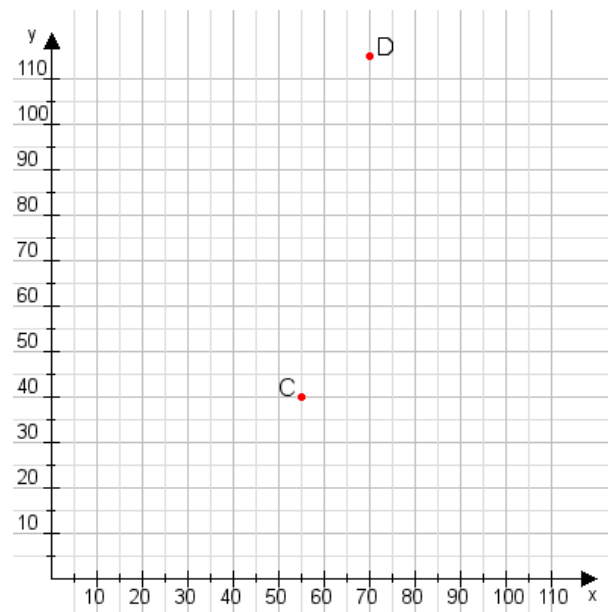
Aufgabe 1:

Zeichne den Punkt A(20|30) und den Punkt B(115|90) in das Koordinatensystem ein und verbinde beide Punkte miteinander. Verbinde die Eingetragenen Punkte C, D und ermittle deren Koordinaten.



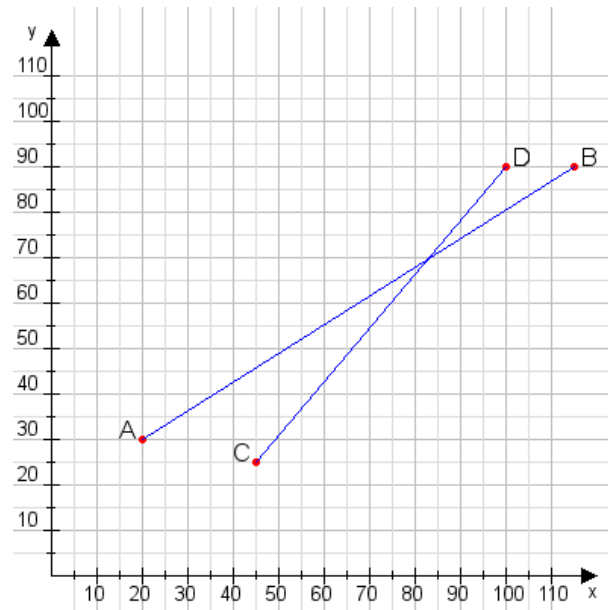
Aufgabe 2:

Zeichne den Punkt A(15|50) und den Punkt B(100|110) in das Koordinatensystem ein und verbinde beide Punkte miteinander. Verbinde die Eingetragenen Punkte C, D und ermittle deren Koordinaten.



Aufgabe 1:

C(45|25), D(100|90)



Aufgabe 2:

C(55|40), D(70|115)

