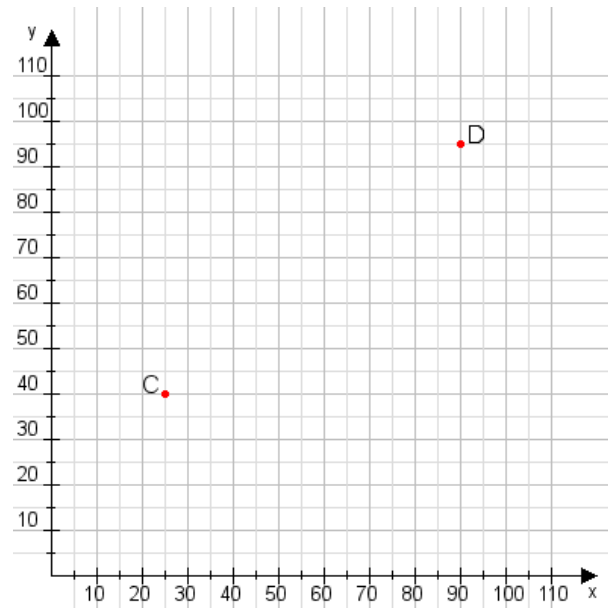


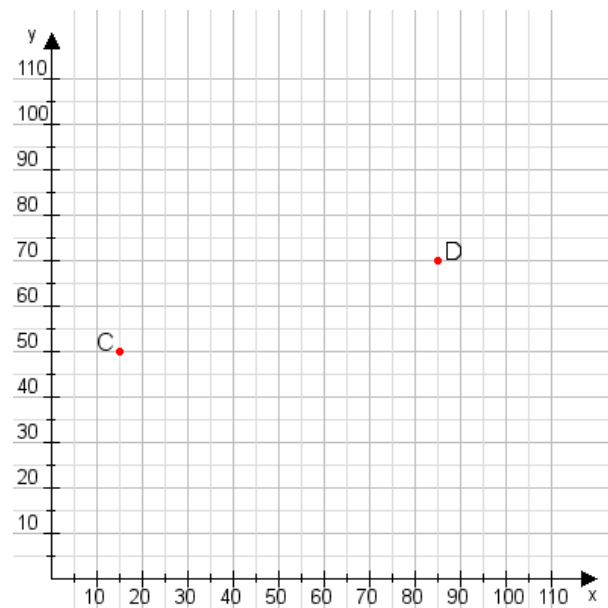
**Aufgabe 1:**

Zeichne den Punkt A(30|25) und den Punkt B(90|60) in das Koordinatensystem ein und verbinde beide Punkte miteinander. Verbinde die Eingetragenen Punkte C, D und ermittle deren Koordinaten.



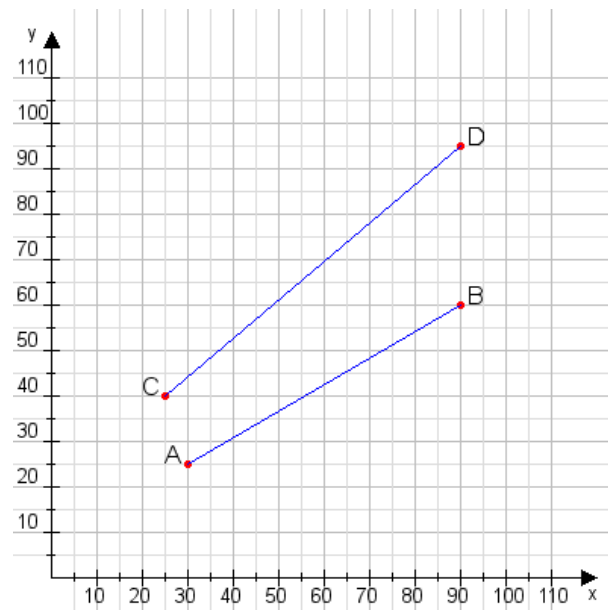
**Aufgabe 2:**

Zeichne den Punkt A(30|50) und den Punkt B(115|110) in das Koordinatensystem ein und verbinde beide Punkte miteinander. Verbinde die Eingetragenen Punkte C, D und ermittle deren Koordinaten.



**Aufgabe 1:**

C(25|40), D(90|95)



**Aufgabe 2:**

C(15|50), D(85|70)

