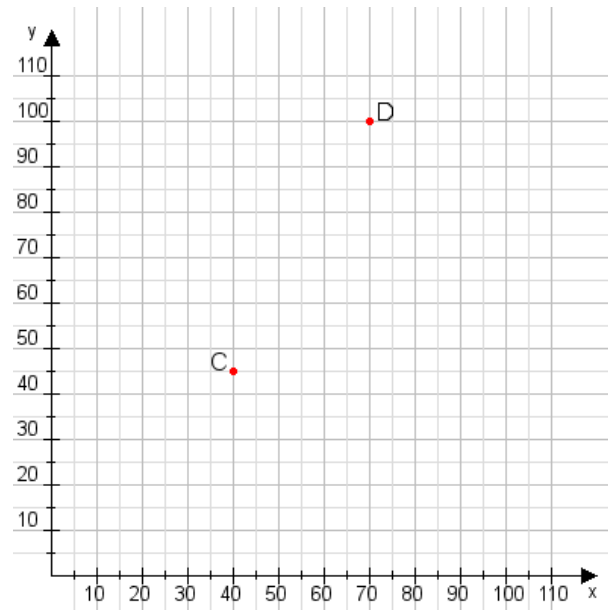


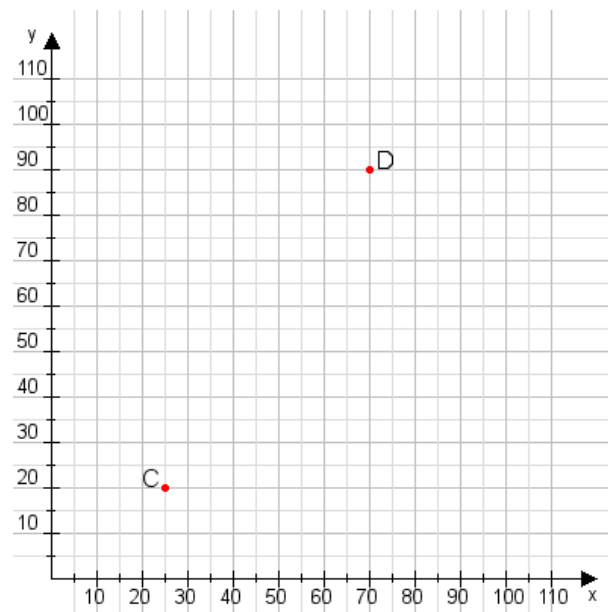
**Aufgabe 1:**

Zeichne den Punkt A(10|30) und den Punkt B(120|110) in das Koordinatensystem ein und verbinde beide Punkte miteinander. Verbinde die Eingetragenen Punkte C, D und ermittle deren Koordinaten.



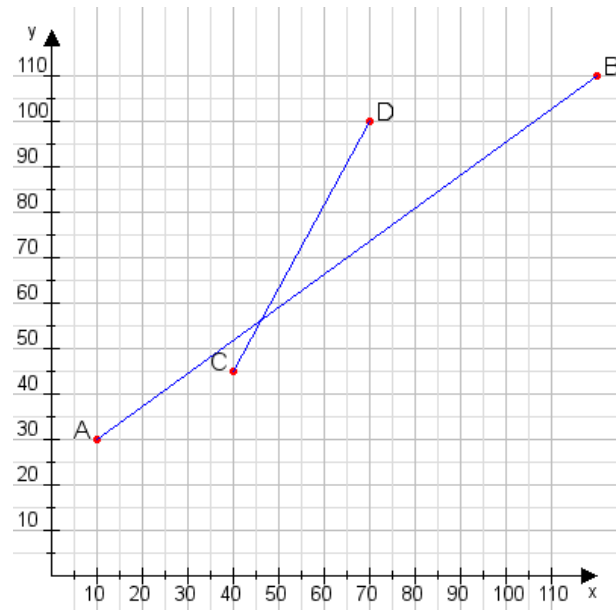
**Aufgabe 2:**

Zeichne den Punkt A(55|30) und den Punkt B(80|115) in das Koordinatensystem ein und verbinde beide Punkte miteinander. Verbinde die Eingetragenen Punkte C, D und ermittle deren Koordinaten.



**Aufgabe 1:**

C(40|45), D(70|100)



**Aufgabe 2:**

C(25|20), D(70|90)

