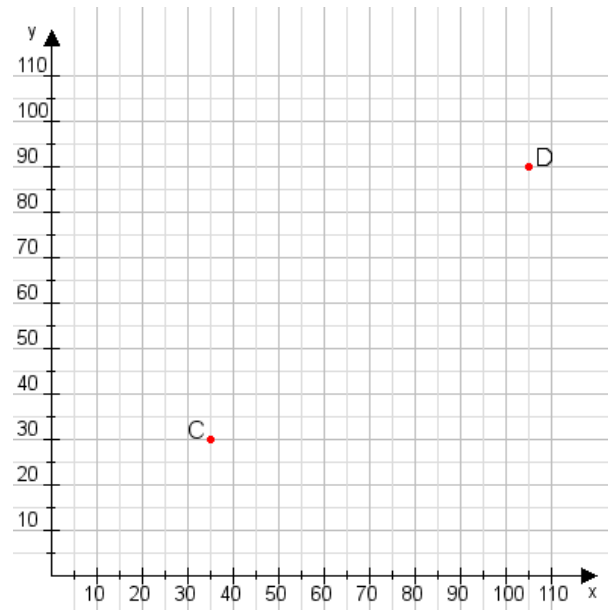


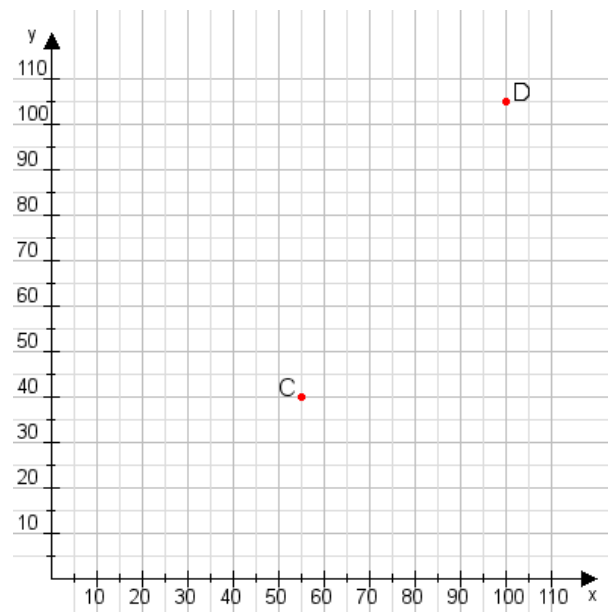
Aufgabe 1:

Zeichne den Punkt A(50|20) und den Punkt B(80|75) in das Koordinatensystem ein und verbinde beide Punkte miteinander. Verbinde die Eingetragenen Punkte C, D und ermittle deren Koordinaten.



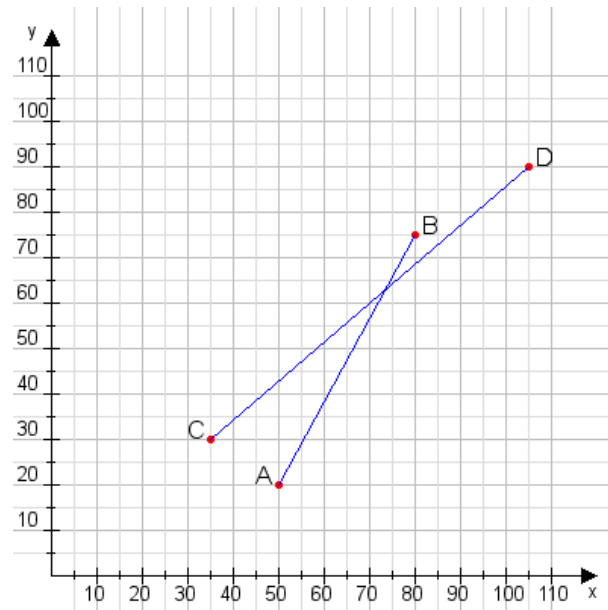
Aufgabe 2:

Zeichne den Punkt A(50|55) und den Punkt B(90|90) in das Koordinatensystem ein und verbinde beide Punkte miteinander. Verbinde die Eingetragenen Punkte C, D und ermittle deren Koordinaten.



Aufgabe 1:

C(35|30), D(105|90)



Aufgabe 2:

C(55|40), D(100|105)

