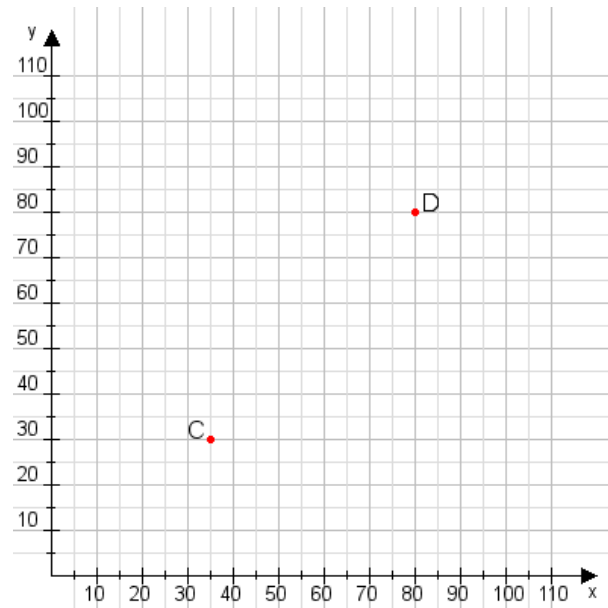


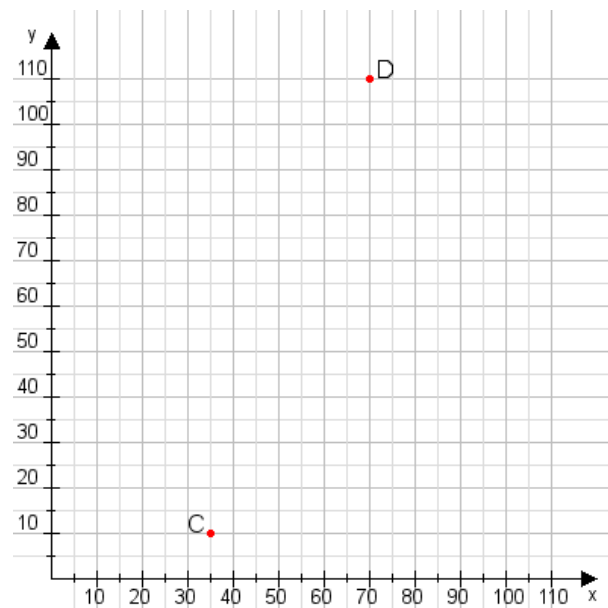
Aufgabe 1:

Zeichne den Punkt A(40|50) und den Punkt B(80|100) in das Koordinatensystem ein und verbinde beide Punkte miteinander. Verbinde die Eingetragenen Punkte C, D und ermittle deren Koordinaten.



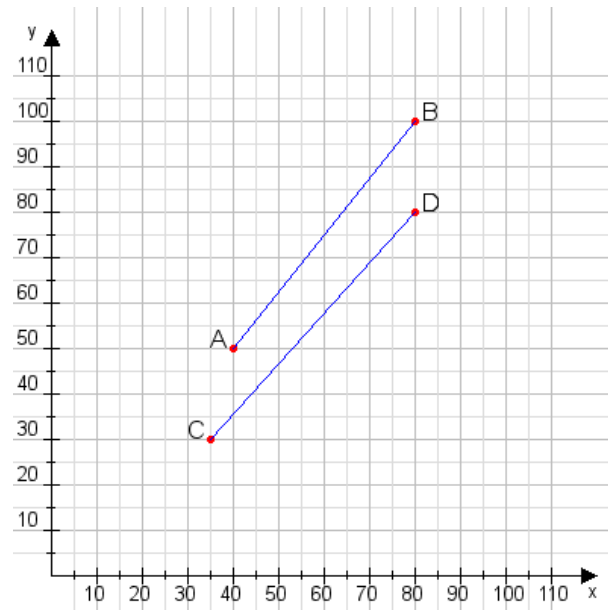
Aufgabe 2:

Zeichne den Punkt A(55|40) und den Punkt B(115|110) in das Koordinatensystem ein und verbinde beide Punkte miteinander. Verbinde die Eingetragenen Punkte C, D und ermittle deren Koordinaten.



Aufgabe 1:

C(35|30), D(80|80)



Aufgabe 2:

C(35|10), D(70|110)

