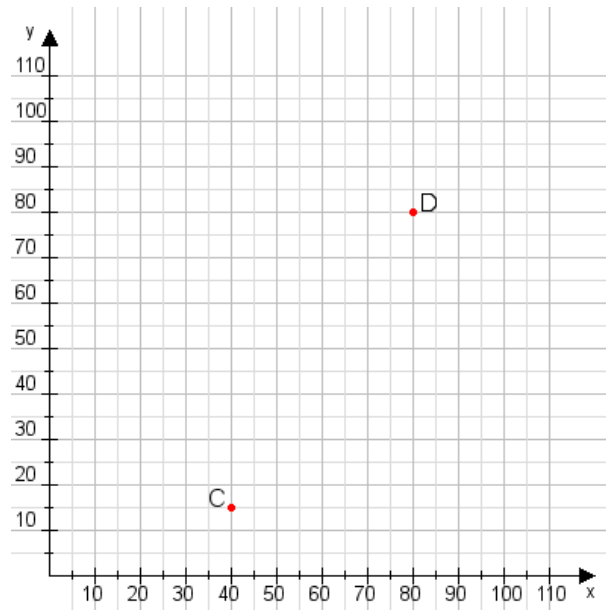


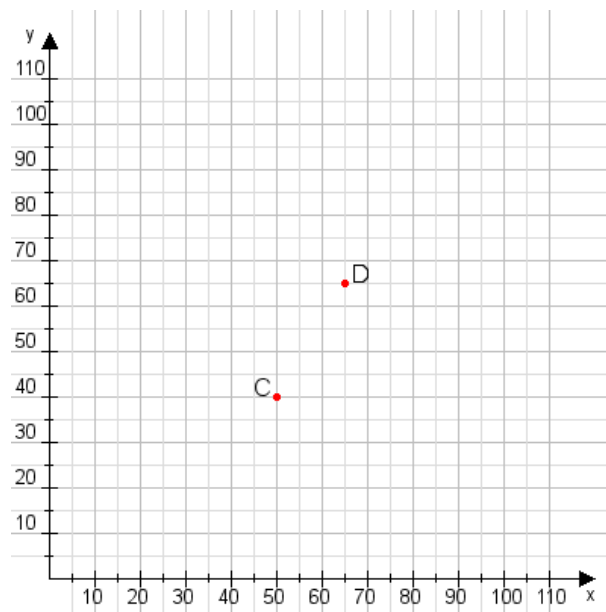
Aufgabe 1:

Zeichne den Punkt A(40|50) und den Punkt B(115|75) in das Koordinatensystem ein und verbinde beide Punkte miteinander. Verbinde die Eingetragenen Punkte C, D und ermittle deren Koordinaten.



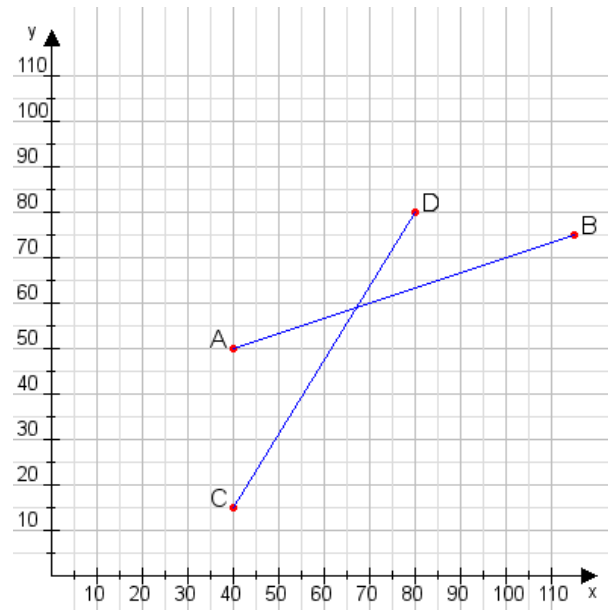
Aufgabe 2:

Zeichne den Punkt A(50|50) und den Punkt B(60|85) in das Koordinatensystem ein und verbinde beide Punkte miteinander. Verbinde die Eingetragenen Punkte C, D und ermittle deren Koordinaten.



Aufgabe 1:

C(40|15), D(80|80)



Aufgabe 2:

C(50|40), D(65|65)

