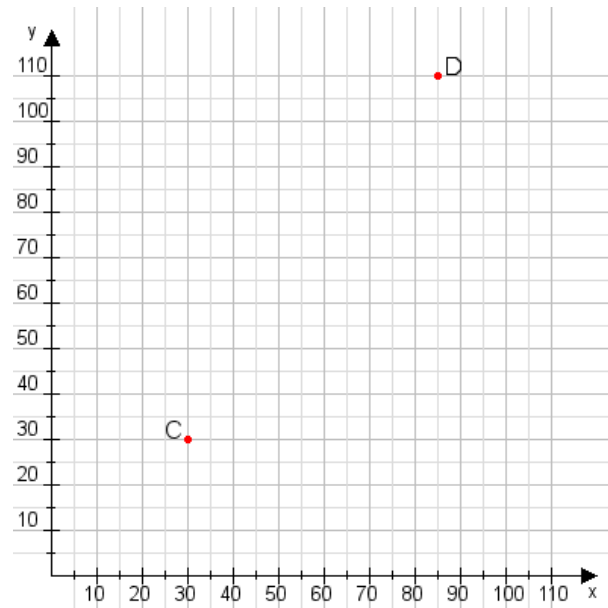


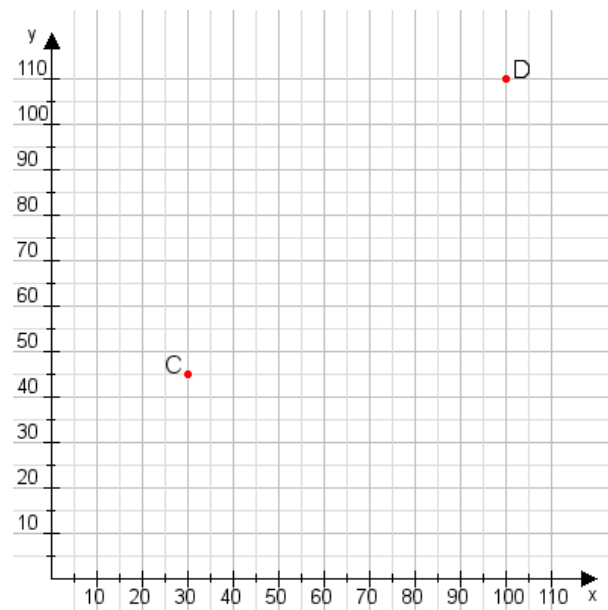
Aufgabe 1:

Zeichne den Punkt A(55|50) und den Punkt B(95|90) in das Koordinatensystem ein und verbinde beide Punkte miteinander. Verbinde die Eingetragenen Punkte C, D und ermittle deren Koordinaten.



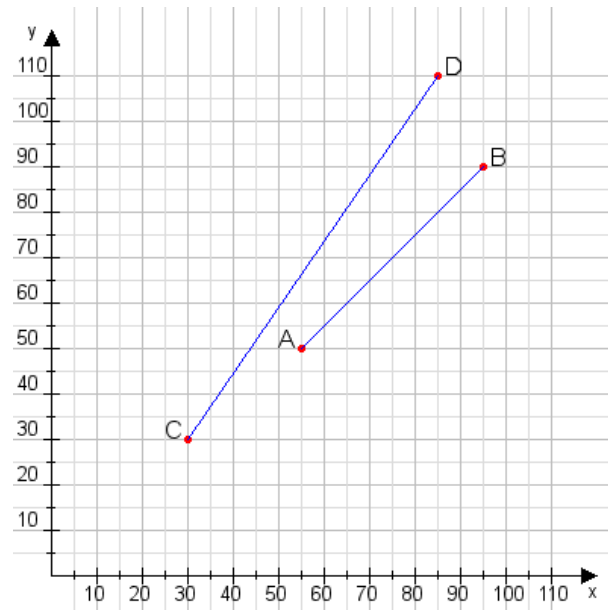
Aufgabe 2:

Zeichne den Punkt A(30|40) und den Punkt B(100|110) in das Koordinatensystem ein und verbinde beide Punkte miteinander. Verbinde die Eingetragenen Punkte C, D und ermittle deren Koordinaten.



Aufgabe 1:

C(30|30), D(85|110)



Aufgabe 2:

C(30|45), D(100|110)

