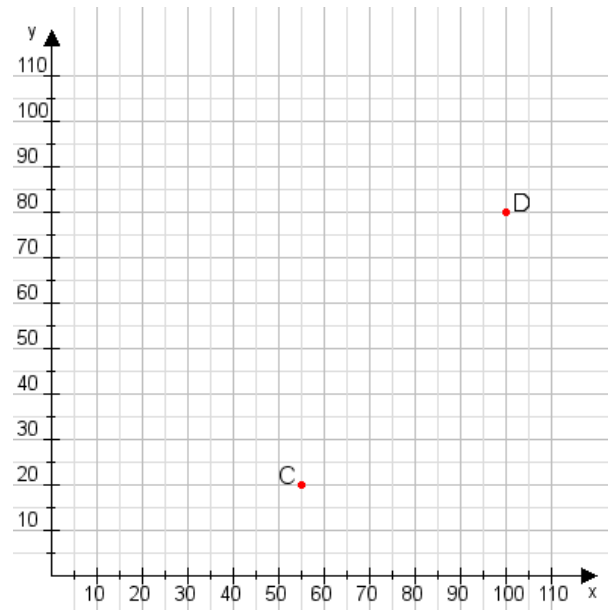


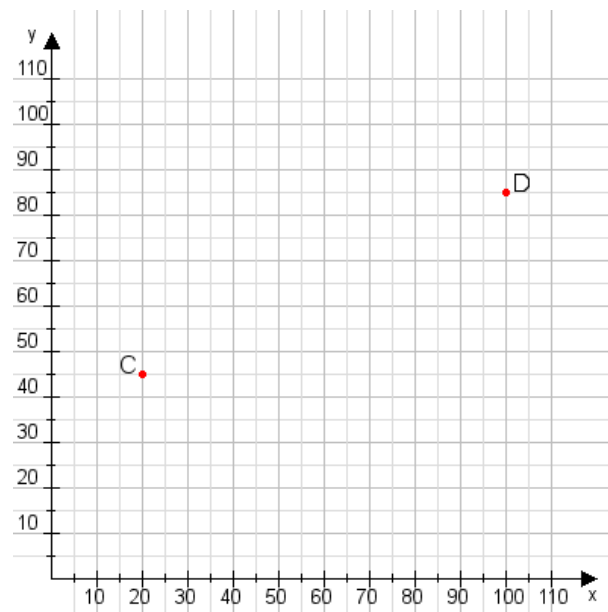
Aufgabe 1:

Zeichne den Punkt A(10|30) und den Punkt B(100|60) in das Koordinatensystem ein und verbinde beide Punkte miteinander. Verbinde die Eingetragenen Punkte C, D und ermittle deren Koordinaten.



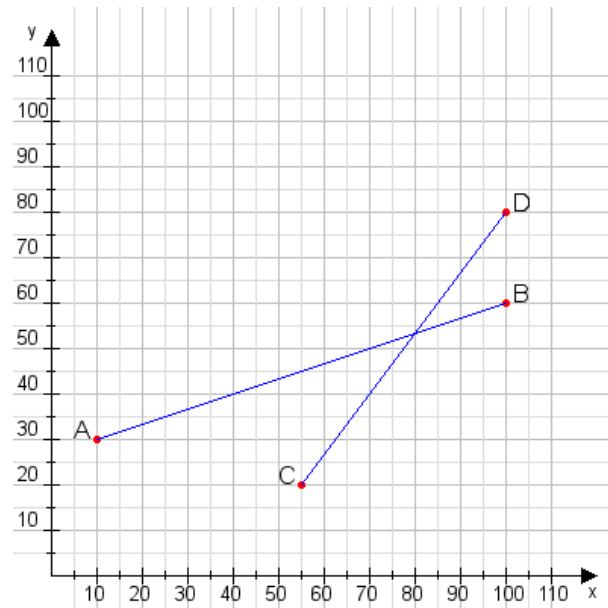
Aufgabe 2:

Zeichne den Punkt A(35|10) und den Punkt B(90|110) in das Koordinatensystem ein und verbinde beide Punkte miteinander. Verbinde die Eingetragenen Punkte C, D und ermittle deren Koordinaten.



Aufgabe 1:

C(55|20), D(100|80)



Aufgabe 2:

C(20|45), D(100|85)

