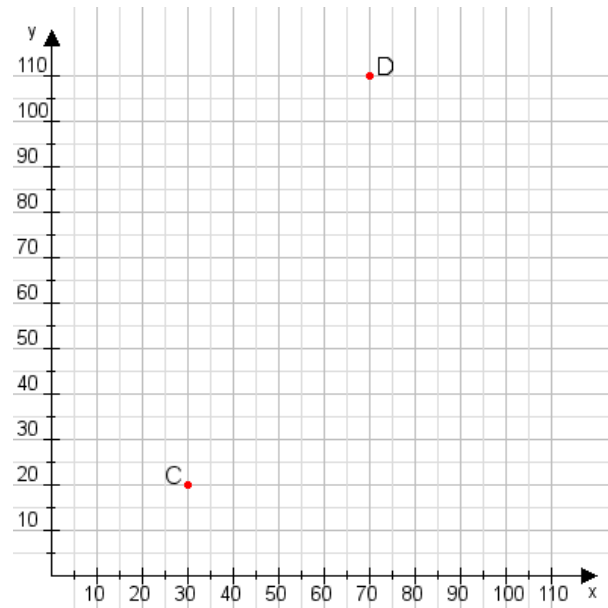


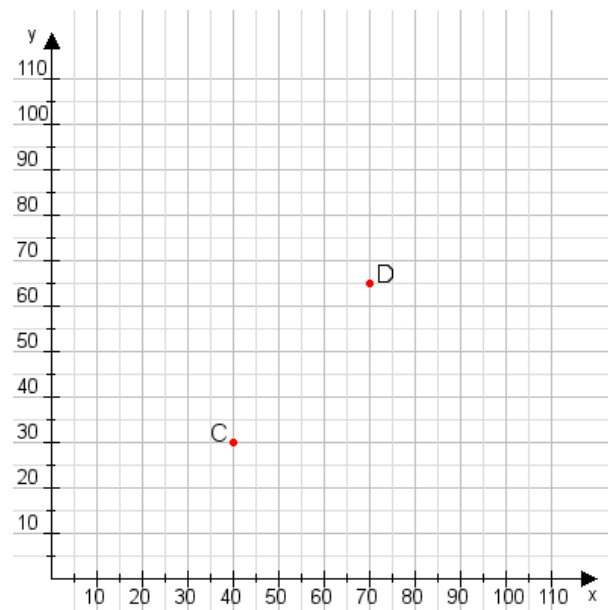
Aufgabe 1:

Zeichne den Punkt A(20|30) und den Punkt B(120|85) in das Koordinatensystem ein und verbinde beide Punkte miteinander. Verbinde die Eingetragenen Punkte C, D und ermittle deren Koordinaten.



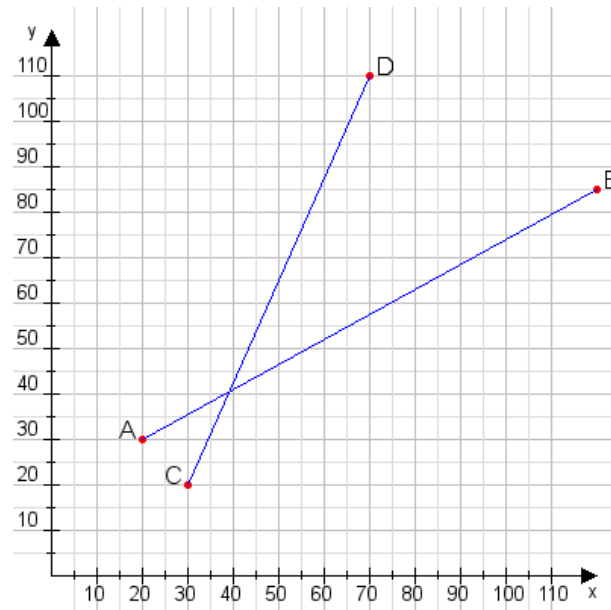
Aufgabe 2:

Zeichne den Punkt A(50|30) und den Punkt B(90|80) in das Koordinatensystem ein und verbinde beide Punkte miteinander. Verbinde die Eingetragenen Punkte C, D und ermittle deren Koordinaten.



Aufgabe 1:

C(30|20), D(70|110)



Aufgabe 2:

C(40|30), D(70|65)

