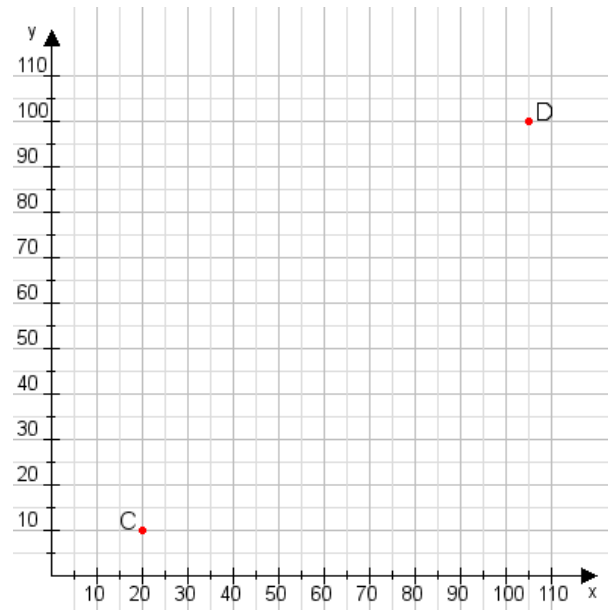


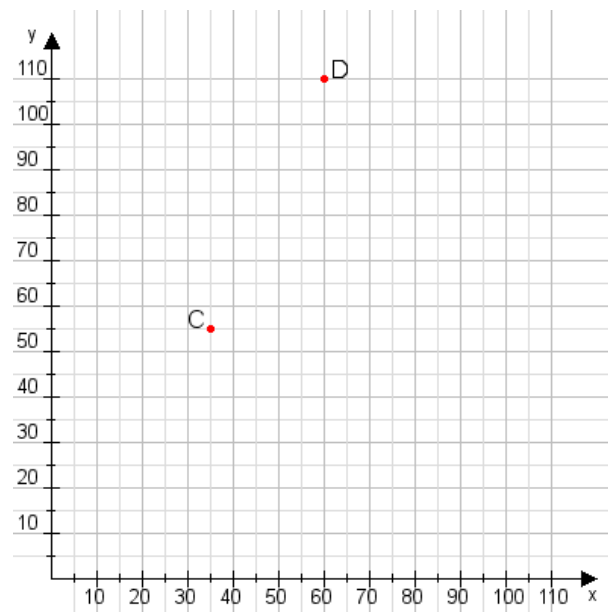
Aufgabe 1:

Zeichne den Punkt A(25|40) und den Punkt B(70|75) in das Koordinatensystem ein und verbinde beide Punkte miteinander. Verbinde die Eingetragenen Punkte C, D und ermittle deren Koordinaten.



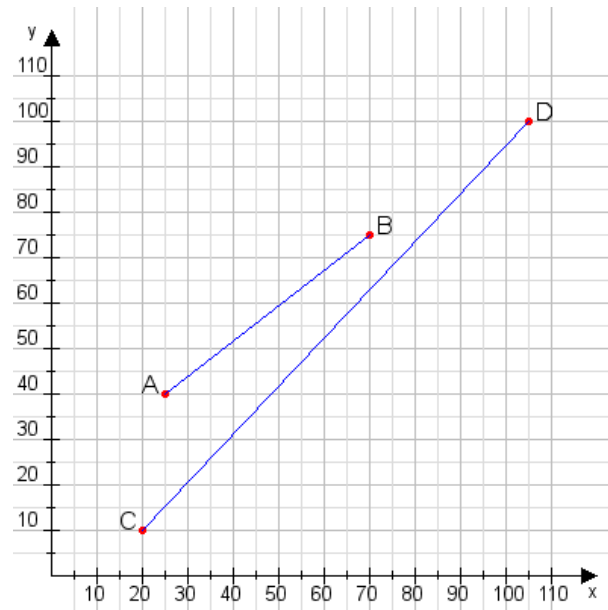
Aufgabe 2:

Zeichne den Punkt A(30|40) und den Punkt B(115|110) in das Koordinatensystem ein und verbinde beide Punkte miteinander. Verbinde die Eingetragenen Punkte C, D und ermittle deren Koordinaten.



Aufgabe 1:

C(20|10), D(105|100)



Aufgabe 2:

C(35|55), D(60|110)

