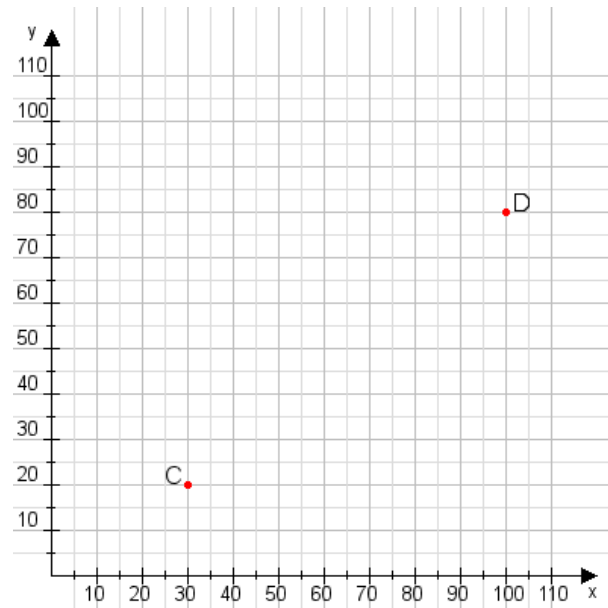


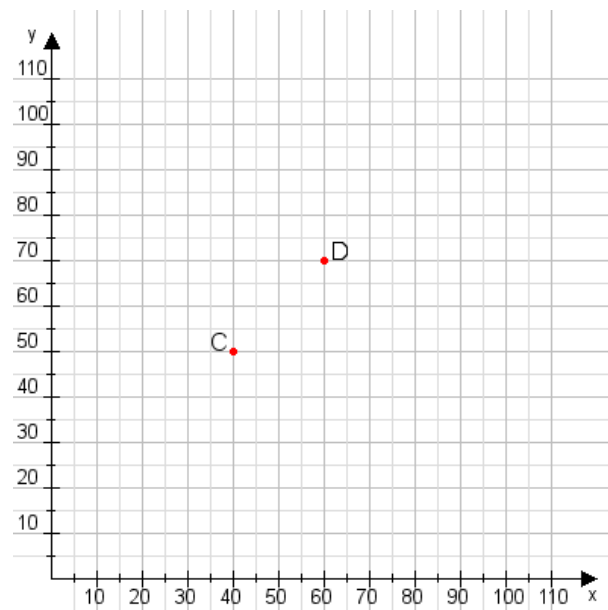
Aufgabe 1:

Zeichne den Punkt A(25|10) und den Punkt B(70|70) in das Koordinatensystem ein und verbinde beide Punkte miteinander. Verbinde die Eingetragenen Punkte C, D und ermittle deren Koordinaten.



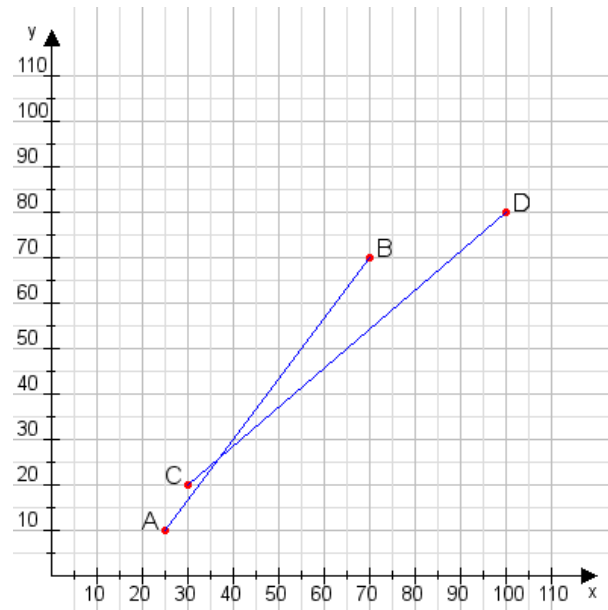
Aufgabe 2:

Zeichne den Punkt A(55|40) und den Punkt B(90|110) in das Koordinatensystem ein und verbinde beide Punkte miteinander. Verbinde die Eingetragenen Punkte C, D und ermittle deren Koordinaten.



Aufgabe 1:

C(30|20), D(100|80)



Aufgabe 2:

C(40|50), D(60|70)

