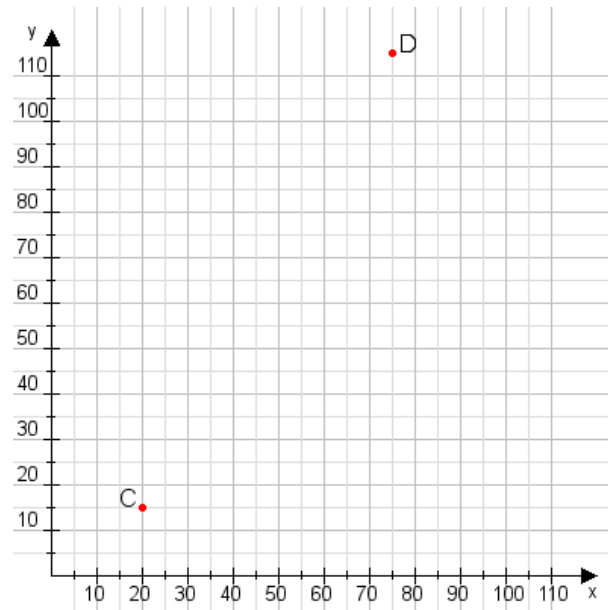


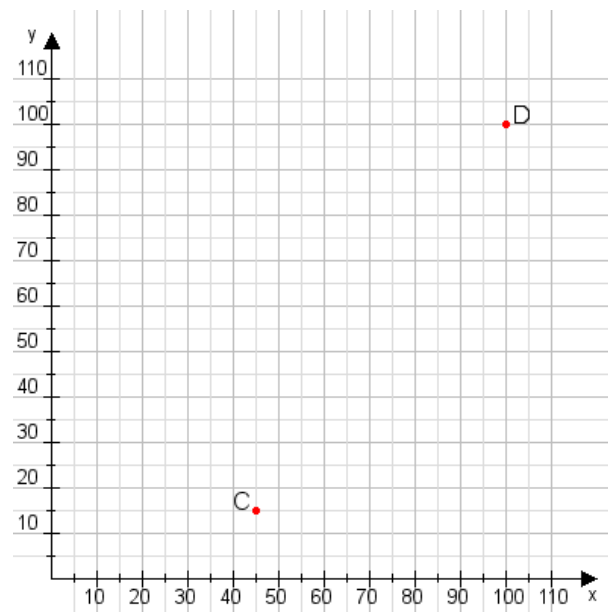
**Aufgabe 1:**

Zeichne den Punkt A(30|40) und den Punkt B(80|80) in das Koordinatensystem ein und verbinde beide Punkte miteinander. Verbinde die Eingetragenen Punkte C, D und ermittle deren Koordinaten.



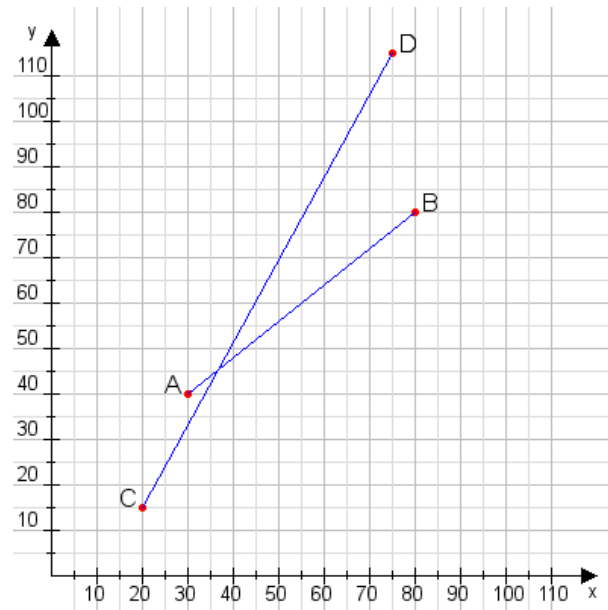
**Aufgabe 2:**

Zeichne den Punkt A(20|10) und den Punkt B(100|65) in das Koordinatensystem ein und verbinde beide Punkte miteinander. Verbinde die Eingetragenen Punkte C, D und ermittle deren Koordinaten.



**Aufgabe 1:**

C(20|15), D(75|115)



**Aufgabe 2:**

C(45|15), D(100|100)

