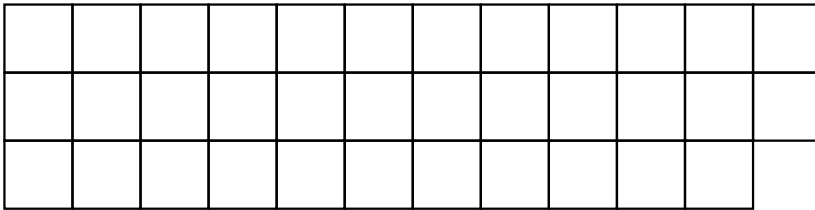




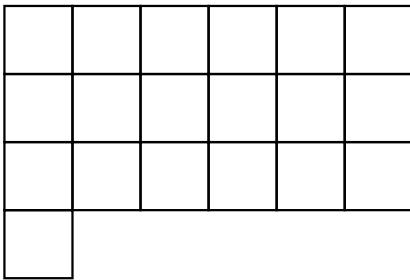
Name:	Klasse:	Datum:
-------	---------	--------

Die Flächen dieser Figuren sind in Blöcke, Quadrateinheiten bzw. Fliesen unterteilt, von einer Seitenlänge von je 1cm. Berechne den Flächeninhalt gib bei der Lösung einen Rechenweg mit an.

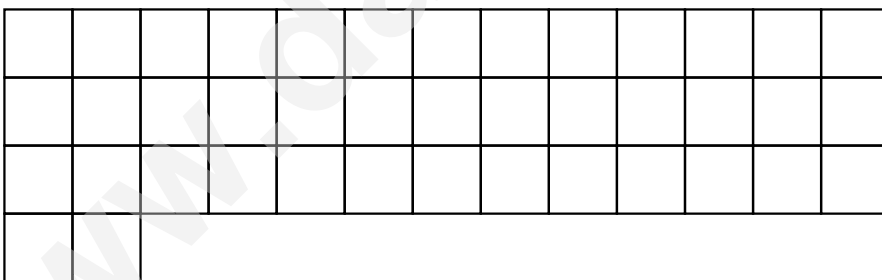
Aufgabe 1.)



Aufgabe 2.)



Aufgabe 3.)





## Lösungen

Aufgabe 1.)  $3 \times 12 - 1 = 35\text{cm}^2$

oder  $2 \times 12 + 11 = 35\text{cm}^2$

Aufgabe 2.)  $4 \times 6 - 5 = 19\text{cm}^2$

oder  $3 \times 6 + 1 = 19\text{cm}^2$

Aufgabe 3.)  $4 \times 13 - 11 = 41\text{cm}^2$

oder  $3 \times 13 + 2 = 41\text{cm}^2$