


Name:	Klasse:	Datum:
-------	---------	--------

Aufgabe 1.



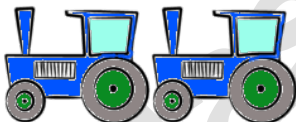
=

Aufgabe 2.



=

Aufgabe 3.



=

Aufgabe 4.



=


Lösungen

Aufgabe 1:



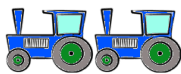
1

Aufgabe 2:



10

Aufgabe 3:



2

Aufgabe 4:



5