

Name:	Klasse:	Datum:
-------	---------	--------

Aufgabe 1.




=

Aufgabe 2.




=

Aufgabe 3.



=

Aufgabe 4.



=

Lösungen

Aufgabe 1:




1

Aufgabe 2:




4

Aufgabe 3:



14

Aufgabe 4:



8