


Name:

Klasse:


Datum:

Aufgabe 1.  =

Aufgabe 2.  =


Aufgabe 3.  =

Aufgabe 4.  =

Aufgabe 5.  =

Lösungen:

Aufgabe 1:




5

Aufgabe 2:



3

Aufgabe 3:




9

Aufgabe 4:



7

Aufgabe 5:



4