

Name:

Klasse:

Datum:

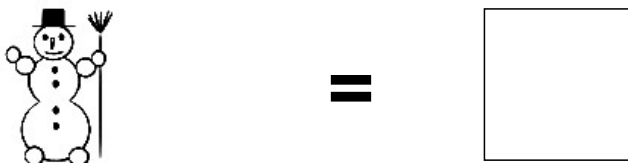
Aufgabe 1.



Aufgabe 2.



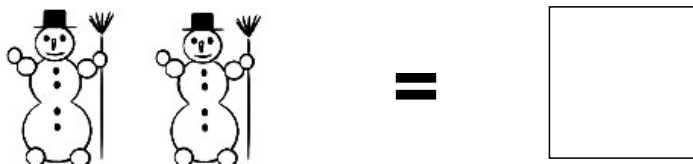
Aufgabe 3.



Aufgabe 4.




Aufgabe 5.



Lösungen:

Aufgabe 1:



4

Aufgabe 2:



8

Aufgabe 3:




1

Aufgabe 4:



9

Aufgabe 5:



2