

Name:

Klasse:

Datum:


Aufgabe 1.



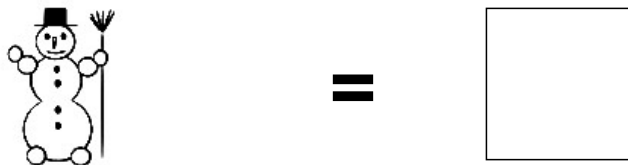
Aufgabe 2.




Aufgabe 3.



Aufgabe 4.



Aufgabe 5.




Lösungen:

Aufgabe 1:



**3**

Aufgabe 2:



**9**

Aufgabe 3:




**6**

Aufgabe 4:



**1**

Aufgabe 5:



**5**