

Übungsaufgaben Zählen mit Bildern (Schneemann). Aufgaben nur in den Zahlenbereich von 1 bis 9.

Zähle die Schneemänner und schreibe die richtige Zahl in das Kästchen!

Name:

Klasse:


Datum:

Aufgabe 1.




=

Aufgabe 2.




=

Aufgabe 3.



=

Aufgabe 4.



=

Aufgabe 5.



=


Lösungen:

Aufgabe 1:




1

Aufgabe 2:



5

Aufgabe 3:



2

Aufgabe 4:



9

Aufgabe 5:



7