

Name:


Klasse:

Datum:

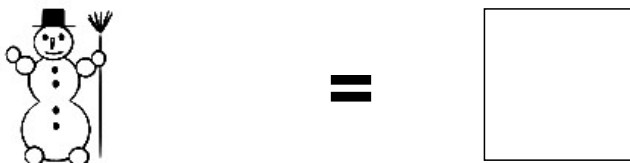
Aufgabe 1.



Aufgabe 2.



Aufgabe 3.



Aufgabe 4.




Aufgabe 5.



Lösungen:

Aufgabe 1:



4

Aufgabe 2:




6

Aufgabe 3:



1

Aufgabe 4:



5

Aufgabe 5:



7