

Name:


Klasse:

Datum:

Aufgabe 1.



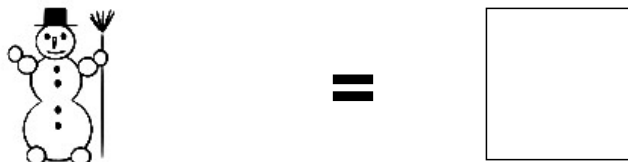
Aufgabe 2.



Aufgabe 3.



Aufgabe 4.




Aufgabe 5.



Lösungen:

Aufgabe 1:




4

Aufgabe 2:



6

Aufgabe 3:



9

Aufgabe 4:



1

Aufgabe 5:



7