

Name:

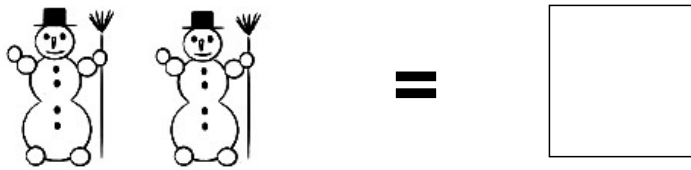
Klasse:

Datum:

Aufgabe 1.



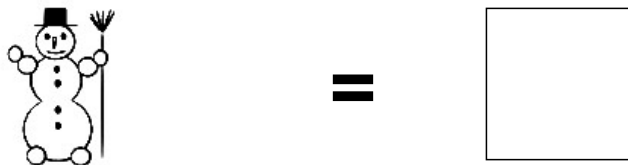
Aufgabe 2.




Aufgabe 3.



Aufgabe 4.



Aufgabe 5.




Lösungen:

Aufgabe 1:




**3**

Aufgabe 2:



**2**

Aufgabe 3:




**7**

Aufgabe 4:



**1**

Aufgabe 5:



**5**