


Name:

Klasse:

Datum:

Aufgabe 1.



Aufgabe 2.



Aufgabe 3.



Aufgabe 4.




Aufgabe 5.




Lösungen:

Aufgabe 1:



5

Aufgabe 2:




9

Aufgabe 3:



8

Aufgabe 4:



4

Aufgabe 5:



7