


Name:

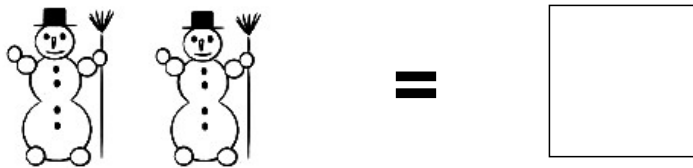
Klasse:

Datum:

Aufgabe 1.



Aufgabe 2.



Aufgabe 3.



Aufgabe 4.



Aufgabe 5.




Lösungen:

Aufgabe 1:



6

Aufgabe 2:



2

Aufgabe 3:




7

Aufgabe 4:



8

Aufgabe 5:



9