

Übungsaufgaben Zählen mit Bildern (Schneemann). Aufgaben nur in den Zahlenbereich von 1 bis 9.

Zähle die Schneemänner und schreibe die richtige Zahl in das Kästchen!

Name:

Klasse:

Datum:

Aufgabe 1.



Aufgabe 2.



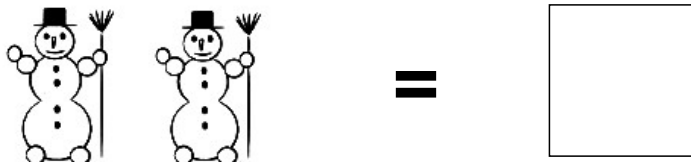
Aufgabe 3.



Aufgabe 4.




Aufgabe 5.



Lösungen:

Aufgabe 1:



8

Aufgabe 2:




7

Aufgabe 3:




3

Aufgabe 4:



5

Aufgabe 5:



2