

Name:


Klasse:

Datum:


Aufgabe 1.



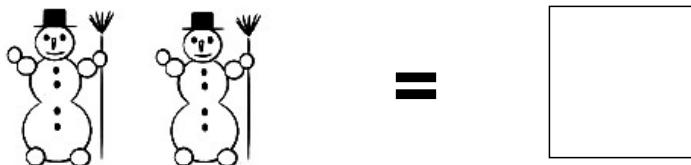
Aufgabe 2.



Aufgabe 3.



Aufgabe 4.



Aufgabe 5.




Lösungen:

Aufgabe 1:



3

Aufgabe 2:




5

Aufgabe 3:



6

Aufgabe 4:



2

Aufgabe 5:



7