


Name:

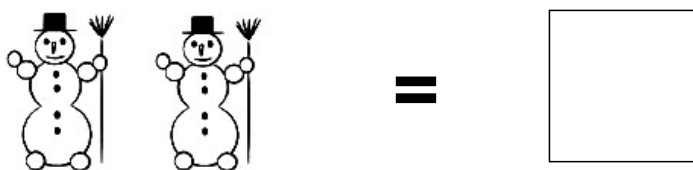
Klasse:

Datum:

Aufgabe 1.



Aufgabe 2.



Aufgabe 3.



Aufgabe 4.



Aufgabe 5.




Lösungen:

Aufgabe 1:




6

Aufgabe 2:



2

Aufgabe 3:



5

Aufgabe 4:



7

Aufgabe 5:



3