

**Übungsaufgaben Zählen mit Bildern (Schneemann). Aufgaben nur in den Zahlenbereich von 1 bis 9.**


**Zähle die Schneemänner und schreibe die richtige Zahl in das Kästchen!**

Name:

Klasse:

Datum:

Aufgabe 1.



=

Aufgabe 2.



=

Aufgabe 3.




=

Aufgabe 4.



=


Aufgabe 5.



=

Lösungen:

Aufgabe 1:



2

Aufgabe 2:



1

Aufgabe 3:




3

Aufgabe 4:



8

Aufgabe 5:



5