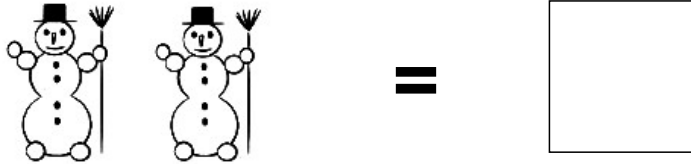


Name:

Klasse:

Datum:

Aufgabe 1.



Aufgabe 2.



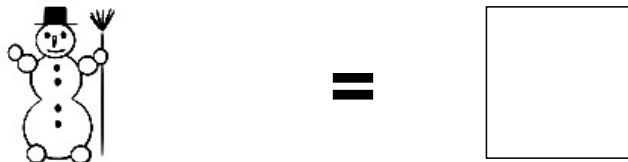
Aufgabe 3.



Aufgabe 4.




Aufgabe 5.



Lösungen:

Aufgabe 1:




2

Aufgabe 2:




3

Aufgabe 3:



9

Aufgabe 4:



5

Aufgabe 5:



1